

Nama:









Kelas:

silahkan tonton video berikut



cocokkan nama bangun datar
dengan bentuk bangun datar
berikut

| Nama Bangun Daatar |
|------------------------|
| SEGITIGA |
| BELAH KETUPAT |
| PERSEGI |
| LINGKARAN |
| LAYANG-LAYANG |
| PERSEGI PANJANG |
| JAJAR GENJANG |
| TRAPISIUM |

| Bentuk Bangun Datar |
|---------------------------------------------------------------------------------------|
|  |
|  |
|  |
|  |
|  |
|  |
|  |
|  |



Isilah titik-titik pada kolom di bawah sesuai dengan sifat-sifat bangun datar

1

- Memiliki dua diagonal yang tidak sama panjang
- Memiliki empat titik sudut, bagian yang berhadapan memiliki besar yang sama
- Memiliki sudut yang saling berdekatan sebesar 180 derajat

2

- Memiliki empat sisi dengan panjang yang sama
- Memiliki dua diagonal dengan panjang yang sama
- Memiliki empat sudut siku-siku sebesar 90 derajat
- Memiliki empat titik sudut
- Memiliki empat sumbu simetri lipat
- Memiliki empat sumbu simetri putar

3

- Memiliki empat sisi dengan dua diantaranya sejajar
- Dapat dibagi menjadi dua yaitu trapesium sembarang dan trapesium sama kaki



Pilihlah jawaban yang paling benar

1 Berapakah jumlah rusuk yang terdapat pada bangun datar persegi panjang

- a. 2
- b. 3
- c. 4
- d. 5

2 Berapakah banyaknya sudut pada bangun datar trapesium

- a. 3
- b. 4
- c. 5
- d. 6

3 Berapakah banyaknya diagonal pada bangun datar belah ketupat

- a. 2
- b. 3
- c. 4
- d. 5

