

Guía de refuerzo para evaluación

Observas las figuras.



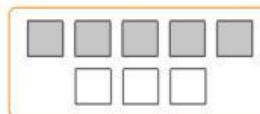
a. Escribe la razón entre la cantidad de estrellas y la cantidad de triángulos. ▶

b. Escribe la razón entre la cantidad de triángulos y la cantidad de cuadrados. ▶

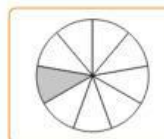
c. Escribe la razón entre la cantidad de cuadrados y la cantidad total de figuras. ▶

Relaciona cada razón de la izquierda con su posible representación de la derecha.
Usa líneas.

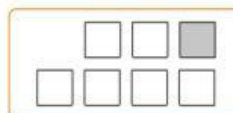
5 : 6



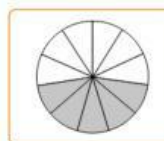
1 : 6



8 : 1



3 : 5



a. El 1% de 10000 es .

h. El 30% de 600 es .

b. El 100% de 39 es .

i. El 99% de 1000 es .

c. El 25% de 100 es .

j. El 45% de 4000 es .

d. El 50% de 18 es .

k. El 15% de 20 es .

e. El 90% de 50 es .

l. El 60% de 500 es .

f. El 80% de 20 es .

m. El 18% de 25 es .

g. El 75% de 16 es .

n. El 70% de 60 es .
