



LKPD

BILANGAN DAN BERHITUNG



Nama :

Kelas :

2 (Semester 1)

TEKSFIELD

1

Angka 5 pada 151 menempati nilai tempat....

2

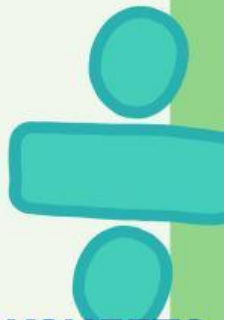
Angka 1 pada 601 menempati nilai tempat....

3

Lambang bilangan dari seratus dua puluh enam yaitu....

4

Lambang bilangan dari tujuh ratus yaitu....





LKPD

BILANGAN DAN BERHITUNG

Nama :

Kelas :

2 (Semester 1)



WORD SEARCH

Temukan 4 bilangan angka yang sesuai dibawah ini!

SEPULUH

DUA PULUH DUA

SERATUS


LIMA BELAS

O	S	J	K	H	F	D	U	P	R	T
S	E	R	A	T	U	S	A	U	K	X
J	P	S	L	I	M	B	S	L	U	L
D	U	A	P	U	L	U	H	D	U	A
K	L	Q	P	L	Y	T	W	W	O	P
S	U	L	I	M	A	B	E	L	A	S
S	H	I	U	D	A	J	U	H	L	I



LKPD

BILANGAN DAN BERHITUNG



Nama :

Kelas :

2 (Semester 1)

SPEAKER

Sebutlah bilangan berikut ini dengan benar dan tepat!

235



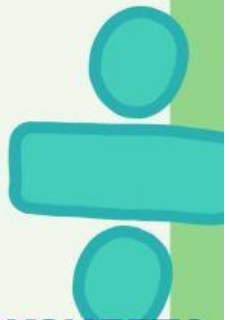
461



709



183



Nama _____

Kelas: 2 (Semester 1)

LKPD

BILANGAN DAN BERHITUNG PENJUMLAHAN



SELECT

1

Hasil dari $30 + 10 = \dots$



50



60



40

2

Hasil dari $60 + 20 = \dots$



60



80



100

3

Hasil dari $90 - 40 = \dots$



50



30



20

4

Hasil dari $100 - 50 = \dots$



90



50



70



Nama _____

Kelas: 2 (Semester 1)

LKPD

BILANGAN DAN BERHITUNG PENGURANGAN



JOIN



Tarik garis angka pada soal ke jawaban yang tepat!

$16 - 2 =$

12

$26 - 4 =$

13

$19 - 7 =$

22

$25 - 12 =$

14