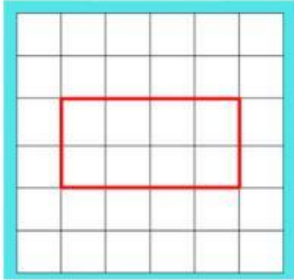


Soal Ulangan Harian	
Kurikulum	Merdeka
Mata Pelajaran	Matematika
Bab V	Luas Daerah Bangun Datar
Sub Bab	Luas Segiempat, Luas Segitiga, Luas Segi Banyak

Pilihlah salah satu jawaban yang paling tepat pada pilihan A, B, C dan D di bawah ini!

Perhatikan gambar berikut ini!




1. Luas bangun di atas yaitu . . .

- A. 4 satuan luas
- B. 6 satuan luas

- C. 8 satuan luas
- D. 10 satuan luas

Perhatikan gambar berikut ini!

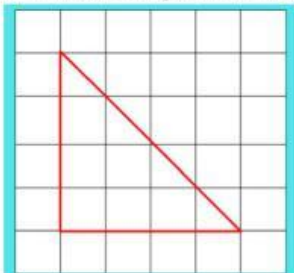


2. Luas bangun di atas yaitu. . .

- A. 16 satuan luas
- B. 18 satuan luas

- C. 20 satuan luas
- D. 24 satuan luas

Perhatikan gambar berikut ini!

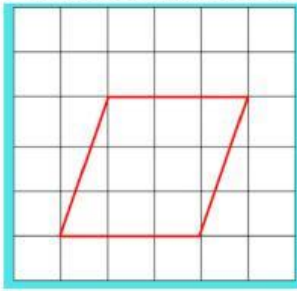


3. Luas bangun di atas yaitu. . .

- A. 8 satuan luas
- B. 9 satuan luas

- C. 14 satuan luas
- D. 16 satuan luas

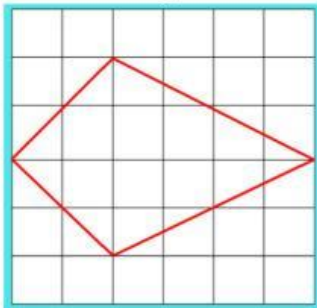
Perhatikan gambar berikut ini!



4. Luas bangun di atas yaitu. . .
- A. 6 satuan luas
 - B. 9 satuan luas

- C. 10 satuan luas
- D. 12 satuan luas

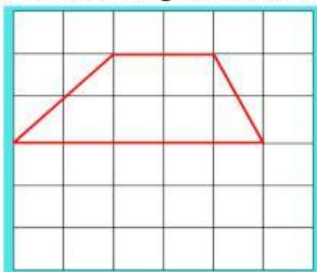
Perhatikan gambar berikut ini!



5. Luas bangun di atas yaitu. . .
- A. 6 satuan luas
 - B. 10 satuan luas

- C. 12 satuan luas
- D. 14 satuan luas

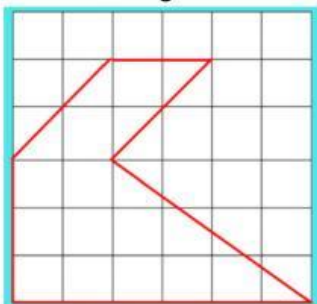
Perhatikan gambar berikut ini!



6. Luas bangun di atas yaitu. . .
- A. 4 satuan luas
 - B. 5 satuan luas

- C. 6 satuan luas
- D. 7 satuan luas

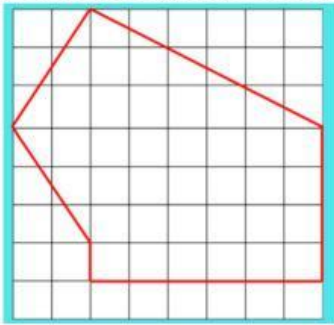
Perhatikan gambar berikut ini!



7. Luas bangun di atas yaitu. . .
- A. 12 satuan luas
 - B. 16 satuan luas

- C. 18 satuan luas
- D. 20 satuan luas

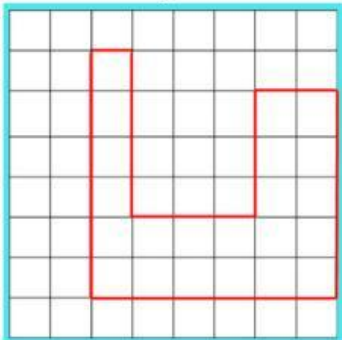
Perhatikan gambar berikut ini!



8. Luas bangun di atas yaitu. . .
- A. 30 satuan luas
 - B. 33 satuan luas

- C. 39 satuan luas
- D. 42 satuan luas

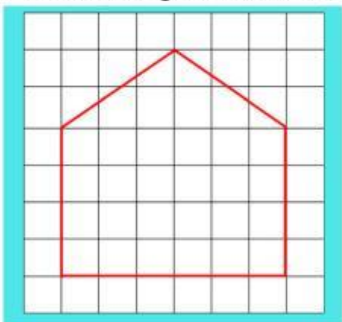
Perhatikan gambar berikut ini!



9. Luas bangun di atas yaitu. . .
- A. 22 satuan luas
 - B. 23 satuan luas

- C. 24 satuan luas
- D. 25 satuan luas

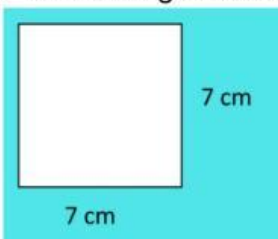
Perhatikan gambar berikut ini!



10. Luas bangun di atas yaitu. . .
- A. 28 satuan luas
 - B. 30 satuan luas

- C. 32 satuan luas
- D. 34 satuan luas

Perhatikan gambar berikut ini!

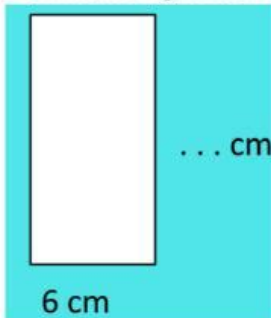


11. Luas bangun datar di atas yaitu . . .

- A. 36 cm²
- B. 42 cm²

- C. 49 cm²
- D. 56 cm²

Perhatikan gambar berikut ini!

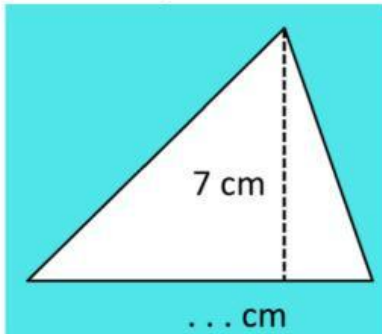


12. Jika luas bangun datar di atas 78 cm², maka panjangnya. . .

- A. 12 cm
- B. 13 cm

- C. 14 cm
- D. 16 cm

Perhatikan gambar berikut ini!

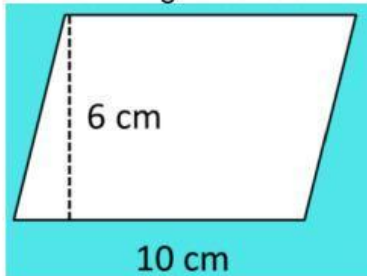


13. Jika luas bangun datar di atas 28 cm², maka alasnya. . .

- A. 8 cm
- B. 9 cm

- C. 10 cm
- D. 11 cm

Perhatikan gambar berikut ini!

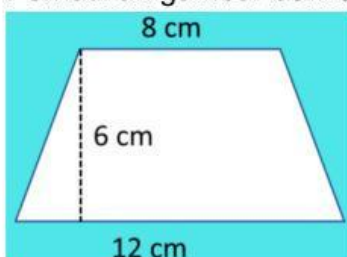


14. Luas bangun datar di atas yaitu . . .

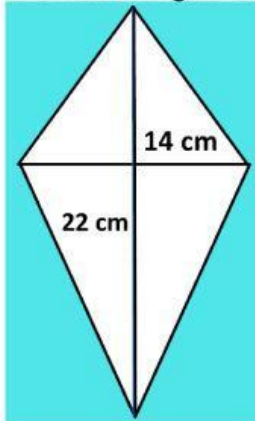
- A. 30 cm²
- B. 40 cm²

- C. 50 cm²
- D. 60 cm²

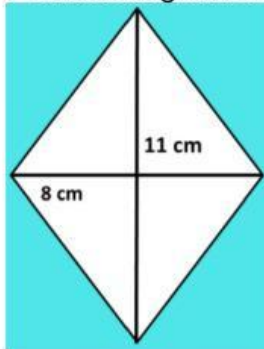
Perhatikan gambar berikut ini!



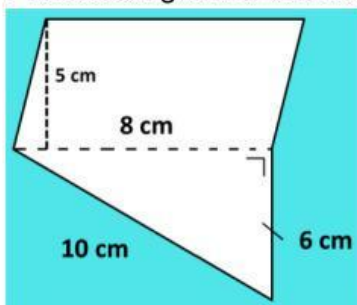
- Perhatikan gambar berikut ini!



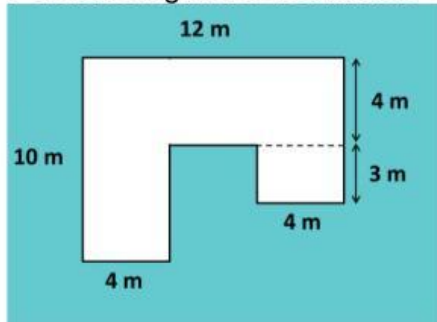
- Perhatikan gambar berikut ini!



- Perhatikan gambar berikut ini!

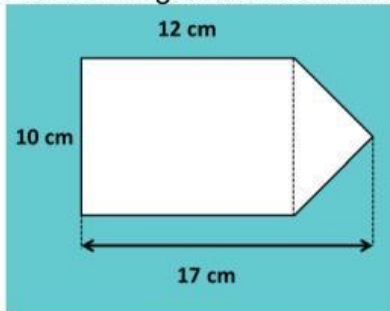


Perhatikan gambar berikut ini!



19. Kamar Dika ditunjukkan oleh gambar di atas. Kamar tersebut akan dipasang ubin yang berukuran 7 dm x 12 dm pada lantainya. Banyak ubin yang diperlukan yaitu . . .
- A. 98 buah
B. 100 buah
C. 122 buah
D. 143 buah

Perhatikan gambar berikut ini!



20. Ririn menggunting selembar kertas, sehingga menjadi seperti gambar di atas. Luas kertas tersebut yaitu . . .
- A. 100 cm²
B. 130 cm²
C. 135 cm²
D. 145 cm²

-----oOo-----