

Nama :

Kelas :

Keliling dan Luas Bangun Datar

Hitunglah keliling dan luas bangun datar di bawah, kemudian tuliskan hasilnya di kolom yang sudah disediakan.

4 cm



4 cm

10 cm



12 cm

7 cm



7 cm

8 cm



10 cm

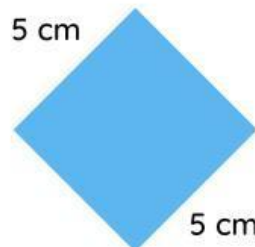
6 cm

10 cm



10 cm

5 cm



5 cm

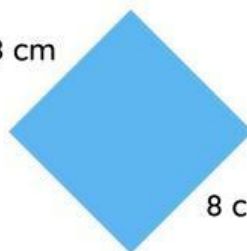
5 cm



11 cm

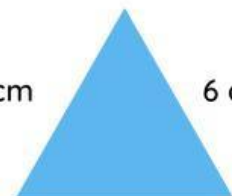
5 cm

8 cm



8 cm

6 cm



6 cm

6 cm

Nama :

Kelas :

Geometri : Bangun Datar

Perhatikan gambar bangun datar dibawah ini. Tuliskan nama bangun datar, beserta jumlah sisi dan diagonalnya.



Nama

Jumlah sisi

Jumlah diagonal



Nama

Jumlah sisi

Jumlah diagonal



Nama

Jumlah sisi

Jumlah diagonal



Nama

Jumlah sisi

Jumlah diagonal



Nama

Jumlah sisi

Jumlah diagonal



Nama

Jumlah sisi

Jumlah diagonal



Nama

Jumlah sisi

Jumlah diagonal



Nama

Jumlah sisi

Jumlah diagonal



Nama

Jumlah sisi

Jumlah diagonal

Name _____

PLAYGROUND PERIMETER

