


# LEMBAR DISKUSI

Mata Pelajaran : Matematika  
Kelas : VII (Tujuh)  
Materi : Bangun Ruang



## DISKUSI (10 Menit)

### Petunjuk Pengisian



1. Silahkan kalian diskusikan dengan teman sebangku
2. Perhatikan gambar bangun ruang di bawah ini
3. Tuliskan nama bangun ruang tersebut dan tentukan banyak rusuk, sisi, dan titik sudutnya.

## IDENTITAS DIRI



Namamu

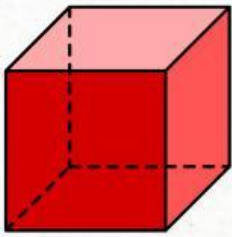
Nama Teman Sebangkumu



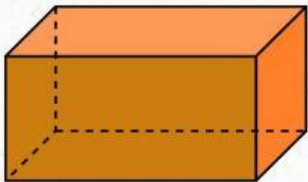
Kelas



**Isilah unsur-unsur di bawah ini dengan tepat!**




Nama :  
Banyak sisi :  
Banyak Rusuk :  
Banyak Titik Sudut :



Nama :  
Banyak sisi :  
Banyak Rusuk :  
Banyak Titik Sudut :



Nama :  
Banyak sisi :  
Banyak Rusuk :  
Banyak Titik Sudut :



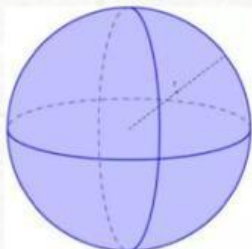
Nama :  
Banyak sisi :  
Banyak Rusuk :  
Banyak Titik Sudut :



Nama :  
Banyak sisi :  
Banyak Rusuk :  
Banyak Titik Sudut :



Nama :  
Banyak sisi :  
Banyak Rusuk :  
Banyak Titik Sudut :



Nama :  
Banyak sisi :  
Banyak Rusuk :  
Banyak Titik Sudut :