


Lembar Kerja Peserta Didik

PENJUMLAHAN

KELAS 1



Nama:

Kelas:

YUK AMATI GAMBAR DAN HITUNG JUMLAHNYA!

1



Ada kucing.


Lalu, datang

kucing lainnya ikut bergabung.

Jadi, jumlah kucing semuanya ada

.

2



Abian memiliki

pensil.

Ibu memberi Abian

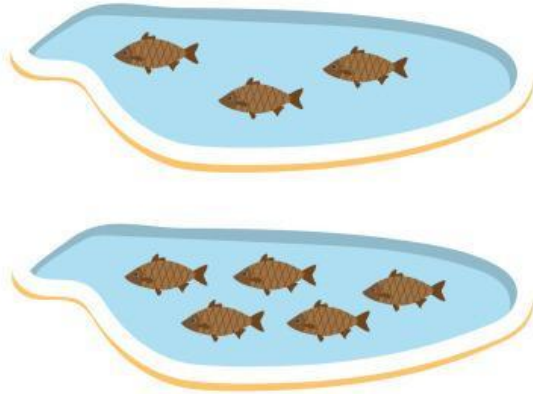
pensil lagi.

Jadi, jumlah pensil Abian ada

.

YUK TULIS KALIMAT MATEMATIKA DENGAN TEPAT!

3




Ada 3 ikan di dalam kolam. Kemudian, ditambahkan 2 ikan lagi ke dalam kolam.

Jadi, sekarang ada 5 ikan.

Kalimat matematika:

$$\underline{\hspace{2cm}} + \underline{\hspace{2cm}} = \underline{\hspace{2cm}}$$

4



Ada 6 bunga tumbuh di taman. Kemudian, tumbuh lagi 2 bunga lainnya.

Jadi, sekarang ada 8 bunga.

Kalimat matematika:

$$\underline{\hspace{2cm}} + \underline{\hspace{2cm}} = \underline{\hspace{2cm}}$$

Pilihlah pernyataan yang benar!

☐ $1+3 = 5$

☐ $4+4 = 10$

☐ $6+4 = 10$

☐ $7+2 = 9$

☐ $5+3 = 8$

☐ $6+5 = 12$

☐ $9+2 = 10$

☐ $6+2 = 8$

☐ $7+3 = 9$

Tentukan hasil dari pertanyaan berikut!

Hasil dari $9+3 = \dots$

☐ 13

☐ 12

☐ 11

☐ 14

Hasil dari $2+5 = \dots$

☐ 8

☐ 7

☐ 10

☐ 6

Hasil dari $7+3 = \dots$

☐ 9

☐ 10

☐ 11

☐ 12

Pasangkan penjumlahan dengan hasil yang benar !

$2+4$

$5+4$

$6+1 =$

$2+1 =$

$1+4 =$



7



3



9



6



5

Belajar Berhitung

Geser jawaban yang benar pada jumlah buah yang tepat!



10

9



14

12



5

8



5

4



2

3