

DOKUMEN MADRASAH
SANGAT RAHASIA



Nama :
No :

PENILAIAN AKHIR TAHUN (PAT) SEMESTER GENAP

MI HIDAYATUL MUBTADIIN DEMPEL

TAHUN PELAJARAN 2023/2024

Mata Pelajaran : MATEMATIKA	Hari / Tanggal : Juni 2024
Kelas : II (Dua)	Waktu : 90 Menit

I. Berilah tanda silang (x) pada huruf a, b, dan c pada jawaban yang benar!

1. Meteran pita dapat digunakan untuk mengukur
 - a. Luas
 - b. volume
 - c. Panjang
2. Panjang tanah dapat diukur menggunakan ...
 - a. Penggaris
 - b. meteran rol
 - c. meteran pita
3. Yang termasuk satuan baku adalah ...
 - a. Meter
 - b. kaki
 - c. hasta
4. Yang termasuk satuan baku adalah ...
 - a. Depa
 - b. Langkah
 - c. sentimeter
5. 1.000 cm sama dengan ... m.
 - a. 1
 - b. 10
 - c. 100
6. $674 \text{ cm} + 226 \text{ cm} = \dots \text{ m.}$
 - a. 9
 - b. 90
 - c. 900
7. $470 \text{ cm} + 115 \text{ cm} = \dots \text{ cm.}$
 - a. 585
 - b. 575
 - c. 500
8. $10 \text{ m} + 60 \text{ cm} = \dots \text{ cm}$
 - a. 70
 - b. 700
 - c. 1.060
9. Panjang sebuah karpet adalah 300 cm. 300 cm sama dengan ... m.
 - a. 3
 - b. 30
 - c. 300
10. Panjang gorden adalah 2 m. Panjang gorden sama dengan ... cm.
 - a. 20
 - b. 200
 - c. 2.000
11. Benda yang paling ringan adalah ...
 - a. Tas
 - b. meja
 - c. lemari
12. Benda yang paling berat yaitu ...
 - a. Kulkas
 - b. radio
 - c. televisi
13. Sapi ... daripada kambing.
 - a. Lebi berat
 - b. sama berat
 - c. lebih ringan


14. Televisi ... daripada radio.

- a. Lebih ringan b. sama berat c. lebih berat

15. Mobil termasuk benda ...

- a. Berat b. sedang c. ringan

16. Dibawah ini hewan yang paling berat adalah ...



- a. kelinci b. kuda c. gajah

17. $600\text{gram} + 80\text{ ons} = \dots \text{ gram}.$

- a. 8.600 b. 6.800 c. 680

18. Ibu membeli 500 gram gula pasir. Gula yang dibeli ibu sama dengan ... ons.

- a. 5 b. 50 c. 100

19. Buyung membeli ikan 30 ons. Berat ikan buyung sama dengan ... kg.

- a. 300 b. 30 c. 3

20. Tanda perbandingan yang tepat adalah ...

- a. < b. > c. =

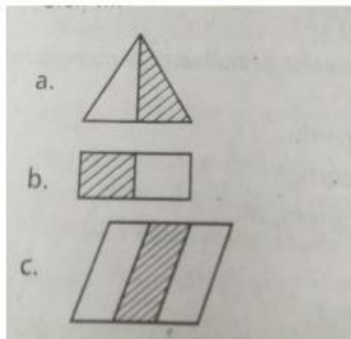
21. Pecahan $\frac{1}{2}$ dapat dibaca ...

- a. Satu dua b. sedua c. setengah

22. Sepertiga ditulis dengan ...

- a. $\frac{1}{3}$ b. $1/3$ c. 1 : 3

23. Gambar pecahan $\frac{1}{3}$ ditunjukkan oleh ...



24.




Perhatikan gambar berikut!

Nilai daerah yang diarsir di samping adalah ...

- a. $\frac{1}{2}$ b. $\frac{1}{3}$ c. $\frac{1}{4}$

25. Pecahan $\frac{1}{2}$ ditunjukkan oleh gambar ...



26. Wulan memiliki beberapa alat tulis di kotak pensilnya. Ada satu bolpoin, satu pensil, dan satu penghapus. Banyak bolpoin jika dinyatakan dalam pecahan yaitu ...

a. $\frac{1}{2}$

b. $\frac{1}{3}$

c. $\frac{1}{4}$

27. Satuan jam ditunjukkan dengan jarum ...

a. Panjang

b. pendek

c. Panjang tipis

28. Jam yang penunjuk waktunya menggunakan angka adalah ...

a. Jam pasir

b. jam digital

c. jam matahari

29. Pukul sepuluh ditulis dengan angka menjadi ...

a. 10,00

b. 10.10

c. 11.00

30. Pada pukul 01.00, jarum Panjang pada jam dinding menunjuk angka ...

a. 12

b. 11

c. 10

31. Dina Bersama keluarganya pergi tamasya.

Mereka berangkat pukul 08,00. Kemudian, mereka pulang pukul 14.00. lama mereka tamasya adalah ...

a. 6 jam

b. 7 jam

c. 8 jam

32. 1 jam sama dengan 60 ...

a. Detik

b. menit

c. jam

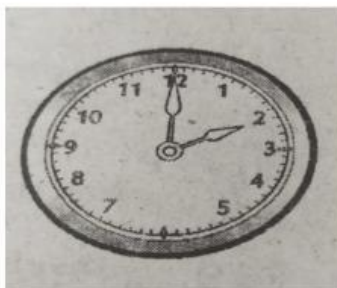
33. Nenek tinggal di desa selama 5 minggu. 5 minggu sama dengan ... hari.

a. 10

b. 25

c. 35

34. Gambar jam disamping menunjukkan pukul ...



a. 12.00

b. 02.00

c. 10.00

35. Wulan menjadi siswa kelas dua selama satu tahun. Satu tahun sama dengan ...

a. 12 bulan

b. 30 minggu

c. 100 hari

