



KEMENTERIAN AGAMA REPUBLIK INDONESIA
PENILAIAN SUMATIF AKHIR TAHUN
MADRASAH TSANAWIYAH MANBAUL HUDA
TAHUN PELAJARAN 2023/2024



LEMBAR SOAL

Mata Pelajaran : INFORMATIKA
Kelas : VII (Tujuh)
Hari dan Tanggal :
Waktu :

Petunjuk Umum :

1. Perhatikan dan ikuti petunjuk pengisian Lembar Jawaban yang disediakan;
2. Periksa dan bacalah soal-soal sebelum Anda menjawab;
3. Laporkan kepada pengawas kalau terdapat tulisan yang kurang jelas, rusak, atau jumlah soal kurang;
4. Dahulukan mengerjakan soal-soal yang Anda anggap mudah;
5. Pilihlah salah satu jawaban yang benar dengan menghitamkan bulatan jawaban;
6. Apabila Anda ingin memperbaiki/mengganti jawaban, bersihkan jawaban semula dengan penghapus sampai bersih, kemudian hitamkan bulatan jawaban yang menurut Anda benar;
7. Periksa seluruh jawaban Anda sebelum diserahkan kepada pengawas.

I. PILIHAN GANDA


PETUNJUK KHUSUS:


Untuk soal nomor 1 sampai dengan 35, pilihlah jawaban yang paling tepat dengan menghitamkan bulatan (●) pada huruf A, B, C atau D pada lembar jawaban!


1. Mengomunikasikan fitur-fitur sistem yang tersedia agar user dapat mengerti dan menggunakan sistem tersebut dengan baik dan benar di sebut...
 - a. User interface
 - b. Jenis user interface
 - c. Interface
 - d. User
2. Apa yang di maksud dengan user interface
 - a. Antar muka pengguna
 - b. Fitur-fitur sistem yang tersedia agar user dapat mengerti sistem tersebut
 - c. Jenis antar muka pengguna yang menggunakan teks
 - d. Jenis antar muka yang menggunakan grafik
3. Pengguna yang menggunakan teks atau baris perintah untuk berinteraksi dengan pengguna di sebut
 - a. CLI
 - b. GUI
 - c. TUI
 - d. VUI
4. Apa yang di maksud dengan CLI
 - a. Pengguna yang menggunakan teks atau baris perintah untuk berinteraksi dengan pengguna
 - b. Antar muka yang menggunakan grafik dan ikon
 - c. Antar muka yang menggunakan teks dan grafik
 - d. Antar muka yang menggunakan suara
5. Antar muka yang menggunakan grafik dan ikon di sebut
 - a. GUI
 - b. TUI
 - c. VUI
 - d. CLI
6. Contoh dari Ekstensi file berupa file gambar yaitu :
 - a. JPEG/PNG/GIF
 - b. MP3
 - c. MPEG


- d. DOCX
7. Contoh dari Ekstensi file berupa Audio Yaitu :
- PNG
 - MP3
 - MP4
 - XLXS
8. Windows Explorer terbagi kedalam 2 jendela yaitu :
- Jendela Atas
 - Jendela Bawah
 - Jendela Atas dan Bawah
 - Jendela Kiri dan Kanan
9. Contoh dari Ekstensi file berupa excell Yaitu.....
- MP4
 - MP3
 - ZIP
 - XLXS
10. Perangkat lunak yang di gunakan untuk mengakses dan menampilkan halaman web di internet dinamakan
- Crome
 - Facebook
 - Web Browser
 - Internet


11.  Gambar di samping di namakan Aplikasi
- Facebook
 - IG
 - Youtube
 - Telegram


12.  Gambar di samping di namakan Aplikasi
- Facebook
 - IG
 - Youtube
 - Telegram


13.  Gambar di samping di namakan Aplikasi
- Facebook
 - IG
 - Yotube
 - Tiktok





14.  Gambar di bawah di namakan Aplikasi
- Telegram
 - Youtube
 - Tiktok
 - Facebook

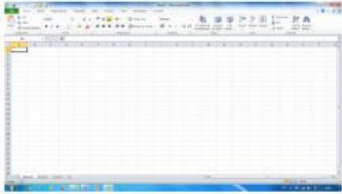
15.  Gambar di bawah di namakan Aplikasi
- Telegram
 - Youtube
 - Tiktok
 - Facebook

16.  Gambar di bawah ini merupakan gambar/aplikasi apa ?
- Aplikasi Youtube
 - Aplikasi Telegram
 - Aplikasi Word
 - Aplikasi Excell

17.  Gambar di bawah ini merupakan gambar/aplikasi apa ?
- Aplikasi Youtube
 - Aplikasi Facebook
 - Aplikasi Word
 - Aplikasi Excell

18.  Gambar di bawah ini di namakan apa ?
- Komputer
 - Leptop
 - Tablet

- d. TV
19. Gambar di bawah ini di namakan apa ?
- 
- a. Komputer
b. Leptop
c. Tablet
d. TV
20. Gambar di bawah ini di namakan apa ?
- 
- a. Komputer
b. Leptop
c. Tablet
d. HP
21. Pernyataan di bawah ini mana aja yang termasuk ke dalam program aplikasi
1. Facebook 2. Browsing
3. Youtube 4. WA
- a. 1, 3, 4
b. 1, 2, 3
c. 3, 2, 4
d. 1, 4, 2
22. Arti dari First name dan Last Name
- a. Nama depan dan nama belakang
b. Belakang
c. Depan
d. Kiri
23. Di sebut apakah aplikasi pengolah kata
- a. Excell
b. Word
c. Windows
d. Powerpoint
24. Di sebut apakah aplikasi pengolah angka
- a. Word
b. Powerpoint
c. Classroom
d. Excell
25. Singkatan dari apa WWW dalam sebuah internet di bawah ini yang di anggap benar
- a. World Web Wide
b. Wide Word Web
c. World Wide Web
d. Wide Web World
26. Disebut apakah salah satu peramban web yang paling banyak di gunakan di dunia.....
- a. Google crome
b. Mozilla
c. Server
d. Internet
27. Terlihat gambar di samping ini merupakan cara pembuatan apa ?
- 
- a. Pembikinan akun google
b. Pembikinan akun facebook
c. Pembikinan akun twiter
d. Pembikinan akun telegram
28. Terlihat gambar di samping ini merupakan cara pembuatan apa ?
- 
- a. Pembikinan akun google
b. Pembikinan akun facebook
c. Pembikinan akun twiter
d. Pembikinan akun telegram
29. Yang sekarang atau hari ini ujian menggunakan aplikasi apa
- a. Liveworksheet
b. Goggle crome
c. WhatsApp
d. Telegram
30. Yang sekarang atau hari ini ujian termasuk kepada teknologi layanan
- a. Internet
b. Non Internet
c. Browsing

- d. Non browsing
31.  Gambar di samping adalah tampilan dari
- Excell
 - Word
 - Facebook
 - Tiktok
32. Media sosial adalah platform online yang memungkinkan individu dan kelompok untuk berinteraksi, berbagai konten, dan berkomunikasi melalui ...
- Surat pos
 - Internet
 - Radio
 - Telepon
33. Dibawah ini mana yang benar dari peranan komputer dalam bidang sosial budaya
- Memperkenalkan kebudayaan Indonesia kepada masyarakat Indonesia dan masyarakat luar negeri
 - Menciptakan lapangan pekerjaan
 - Promosi pariwisata
 - Perdagangan
 - Sekolah
- Jawaban di atas mana yang paling benar
- 1 – 2 – 3
 - 1 – 2 – 4
 - 1 – 4 – 5
 - 3 – 4 – 5
34. Microsoft Excell berfungsi untuk
- Pengolah kata
 - Pengolah angka
 - Pengolah
 - Pengolah huruf
35. Microsoft Word berfungsi untuk
- Pengolah kata
 - Pengolah angka
 - Huruf bilangan
 - Jenis pengolah

II. ESSAY

36. Media sosial adalah platform online yang memungkinkan individu dan kelompok untuk berinteraksi, berbagai konten, dan berkomunikasi melalui
37. Disebut apakah salah satu peramban web yang paling banyak di gunakan di dunia.....
38. Gambar ini di namakan aplikasi apa



39.  Gambar di samping di namakan aplikasi

40. Pelaksanaan yang sekarang ujian Kenaikan Kelas atau Ujian Akhir Semester menggunakan aplikasi