



- A. Pilihlah jawaban yang benar dengan memberi tanda silang (x) pada huruf a, b, atau c!

Muatan PPKn KD 3.4 dan 4.4

1. Ahmad belajar bersama adiknya. Ahmad juga membantu adiknya untuk menyelesaikan tugas dari sekolah. Sikap Ahmad menunjukkan belajar dengan
 - a. mandiri
 - b. kelompok
 - c. rukun
2. Sikap hidup rukun adalah wujud dari
 - a. perpecahan
 - b. persatuan
 - c. pertengkaran

3. Perhatikan gambar berikut ini.



Gambar di atas menunjukkan sikap rukun di sekolah. Sikap rukun tersebut berupa


- a. kerja bakti
- b. kerja keras
- c. menyapu halaman

4. Kegiatan berikut yang menunjukkan sikap persatuan melalui kerja bakti adalah

a.



b.

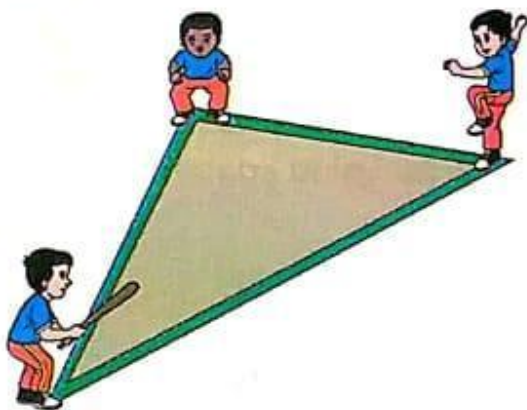


c.




5. Contoh kegiatan kerja bakti yang menunjukkan persatuan dalam keberagaman adalah

a.



b.



c.



Muatan Bahasa Indonesia KD 3.10 dan 4.10

6. Penggunaan huruf kapital yang benar adalah ...
- Pantai Parangtritis ada di Provinsi Yogyakarta
 - pantai parangtritis ada di Provinsi Yogyakarta
 - pantai Parangtritis ada di Provinsi Yogyakarta
7. Tanda titik selalu dibubuhkan di
- awal kalimat
 - tengah kalimat
 - akhir kalimat
8. Aturan penggunaan titik berikut yang benar adalah

- a. Jln M. Yusuf
 - b. Jln. M Yusuf
 - c. Jln. M. Yusuf
9. Kata tanya yang tepat untuk menanyakan alamat suatu tempat adalah
- a. siapa
 - b. di mana
 - c. kapan
10. Wayan berulang tahun pada tanggal 7 Januari. Ia akan mengundang teman-temannya untuk diajak makan bersama.
- Kalimat yang tepat untuk menanyakan jumlah teman yang diundang adalah
- a. Kapan ulang tahun Wayan?
 - b. Mengapa Wayan mengundang teman-temannya?
 - c. Berapa teman Wayan yang diundang?

Muatan Matematika KD 3.6 dan 4.6

11. Hari Ahad adalah nama lain dari hari
- a. Minggu
 - b. Rabu
 - c. Jumat
12. Satu minggu ada
- a. tiga hari
 - b. lima hari
 - c. tujuh hari

13. Ahmad berlibur di rumah nenek 2 minggu.
Ahmad berada di rumah nenek selama ... hari.
- a. 7
 - b. 14
 - c. 21
14. Wayan menginap di rumah pamannya selama dua hari. Wayan pulang ke rumah hari Sabtu. Wayan tiba di rumah pamannya hari
- a. Selasa
 - b. Rabu
 - c. Kamis
15. Seminggu yang lalu, Ayah menerima undangan pesta. Sekarang, hari Rabu, 12 Januari 2022.
- Ayah menerima undangan pada hari
- a. Selasa, 4 Januari 2022
 - b. Rabu, 5 Januari 2022
 - c. Kamis, 6 Januari 2022

Muatan SBdP KD 3.4 dan KD 4.4

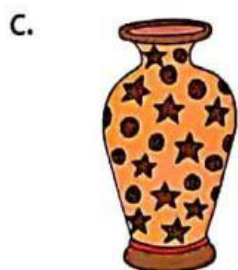

16. Bahan alam yang digunakan untuk membuat kerajinan di samping adalah
- a. daun kering
 - b. kulit jagung
 - c. kulit kerang



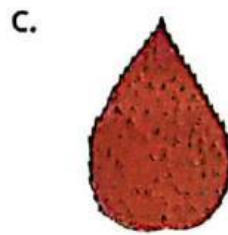

17. Kerajinan dari bahan kulit kerang dapat dijumpai di

- a. pantai
- b. hutan
- c. padang rumput

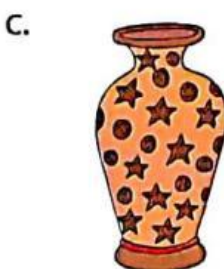

18. Kerajinan berikut yang bahannya dari kulit jagung adalah



19. Gambar yang menunjukkan bahan kerajinan dari kulit salak adalah



20. Kerajinan berikut yang bahannya dari kulit salak adalah



Muatan PJOK KD 3.7 dan 4.7


21. Latihan untuk kecepatan gerak dapat dilakukan dengan cara

- a. jalan di tempat
- b. jalan santai
- c. berlari

22. Manfaat gerakan berjalan dan berlari adalah

- a. melatih kekuatan tangan
- b. menjaga kebugaran
- c. mudah kena penyakit

23. Gambar berikut menunjukkan latihan




- a. menangkap dan melempar bola
- b. lomba berjalan dan berlari
- c. bermain bola kasti

24. Latihan melempar dan menangkap bola dapat digunakan untuk melatih permainan

- a. sepak bola
- b. futsal
- c. kasti

25. Gambar berikut menunjukkan latihan permainan



- a. bola kasti
- b. sepak bola
- c. bola voli