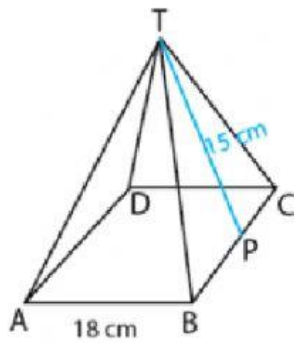


BANGUN RUANG SISI DATAR



Kerjakan soal-soal dibawah ini!

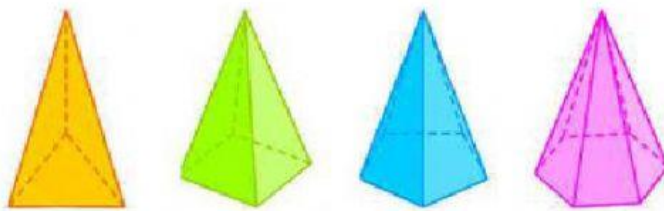
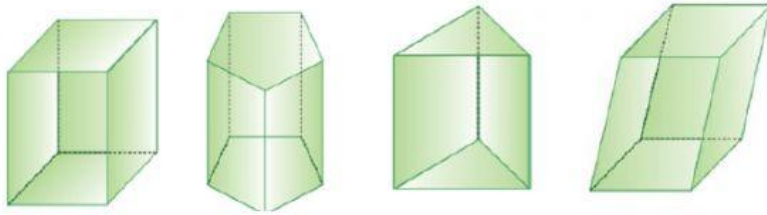
1. Perhatikan limas TABCD alasnya berbentuk persegi.



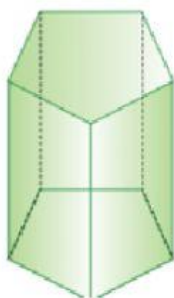
Volume limas adalah

- A. 4.860 cm³
 - B. 3.888 cm³
 - C. 1.620 cm³
 - D. 1.296 cm³
2. Sebuah alas limas berbentuk persegi dengan panjang sisi 6 cm. Sisi tegak limas tersebut mempunyai tinggi 5 cm. Volume limas tersebut adalah
- A. 48 cm³
 - B. 60 cm³
 - C. 72 cm³
 - D. 180 cm³

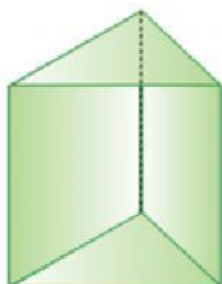
3. Pilihlah nama yang sesuai dengan bangun dibawah...



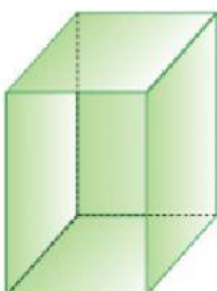
4. Tariklah garis pada jawaban yang benar !



9



12



15

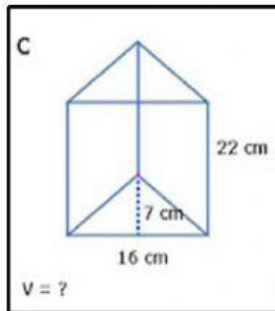
5. Tentukan nilai v , t , dan a yang ditanyakan pada bangun ruang berikut ini !

Bangun Ruang

Jawaban

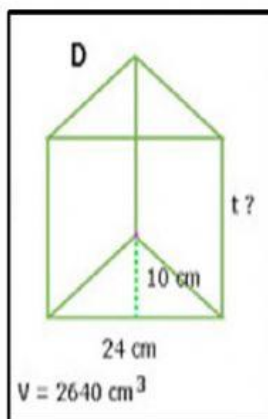
Pilihan Jawaban

a.



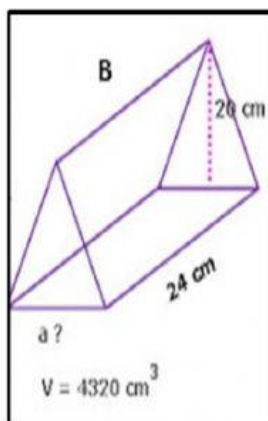
22 cm

b.



18 cm

c.



1232 cm^3