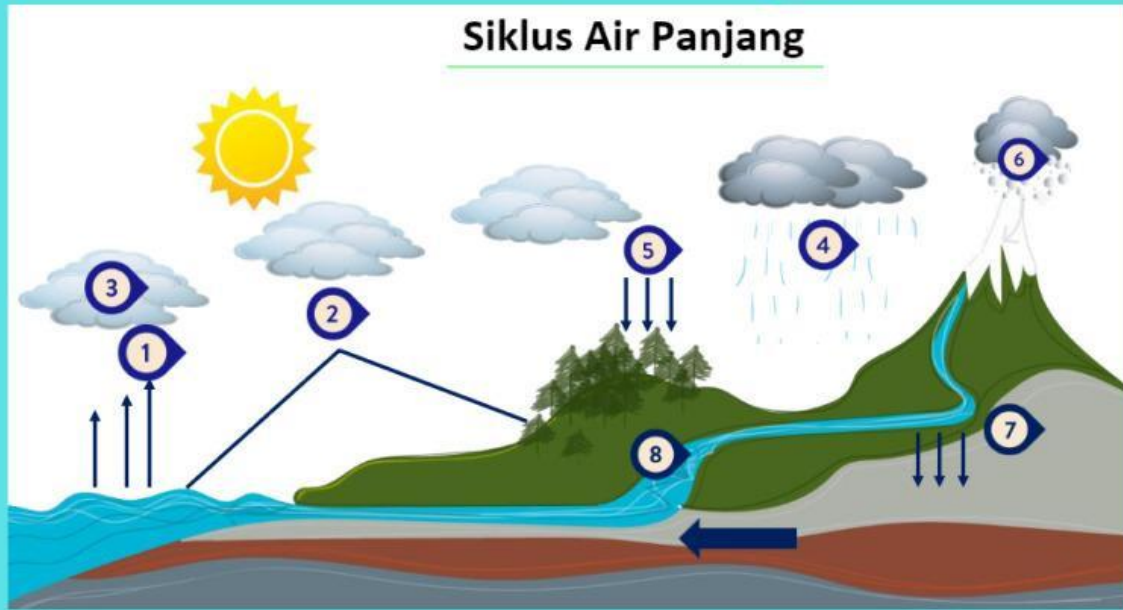


Lengkapi Siklus Air Berikut Menjadi Kesatuan Yang Utuh!

Nama :

Kelas :



Intersepsi

Kondensasi

Evapotranspirasi

Infiltrasi

Salju

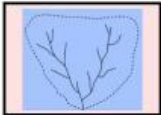

Evaporasi

Run Off

Presipitasi

BENTUK-BENTUK DAERAH ALIRAN SUNGAI

Jodohkanlah gambar bentuk aliran sungai dengan keterangannya di bawah ini !



Bentuk DAS mempunyai corak alur aliran sungai yang sejajar bersatu di bagian hilir, banjir terjadi di titik pertemuan anak sungai

Pola aliran sungai yang arahnya sejajar dengan sungai induk

Pola aliran sungai yang arah alirannya menyebar dan kembali bersatu di hilir

Pola aliran sungai yang bermuara ke sungai induk membentuk sudut lancip

Bentuk lingkaran, anak-anak sungai berkonsentrasi ke suatu titik secara radial, banjir besar terjadi di titik pertemuan anak-anak sungai