

# Latihan ulangan Semester



## Matematika

Nama : \_\_\_\_\_ Kelas : \_\_\_\_\_



Selamat Pagi anak-anak Ibu yang hebat !  
Semoga kalian selalu sehat ya. Pada pertemuan hari ini, kalian akan mengerjakan soal-soal latihan di bawah ini! Kerjakan sesuai petunjuk soal yaa.....Selamat bekerja :)

8. Berilah tanda centang pada perkalian yang hasilnya bilangan 18

$2 \times 6$

$2 \times 9$

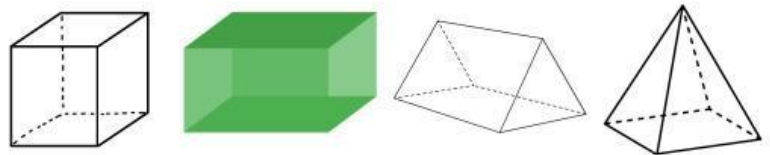
$3 \times 4$

$6 \times 3$

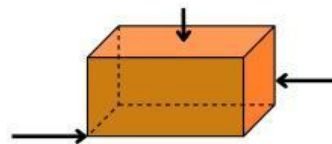
9. Tentukan nama bangun datar berikut!



10. Tentukan nama bangun ruang berikut!



11. Tentukan nama bagian yang diberi tanda panah pada gambar berikut!



1. Lengkapilah kotak dengan bilangan yang tepat

a.  $172 = 100 + 70 + \dots\dots$

b.  $537 = \dots\dots + 30 + \dots\dots$

c.  $421 = \dots\dots + \dots\dots + \dots\dots$

2. Isilah kotak dengan tanda  $>$  atau  $<$  ....

a.  $173 \square 230$

c.  $480 \square 354$

b.  $253 \square 150$

d.  $406 \square 521$

3. Hasil penjumlahan dari  $365 + 427 = \dots\dots$

4. Hasil pengurangan dari  $378 - 121 - 62 = \dots\dots$

5. Pukul waktu berapakah yang ditunjukkan pada gambar jam di bawah ini?



6. Urutkan volume benda berikut dari volume terbanyak!



a

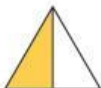
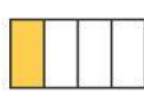
b

c

Urutan dari volume terbanyak....



7. Berilah tanda centang  pada gambar yang menunjukkan pecahan  $\frac{1}{4}$



12. Banyak ruas garis pada balok ada .....

13. Perhatikan data buku pinjaman siswa berikut.

No	Hari	Jumlah Buku
1	Senin	
2	Selasa	
3	Rabu	
4	Kamis	
5	Jumat	
6	Sabtu	

 Mewakili 5 Buku

Hari apa buku paling banyak dipinjam?

Berapa jumlah buku yang paling banyak dipinjam?

Berapa selisih buku yang dipinjam hari Kamis dan Jumat?

14. Bilangan 584 dibaca .....

15. Bilangan 437 dibaca .....