

LKPD

Lembar Kerja Peserta Didik

Mengenal Anggota Tubuh

Kelas :

I

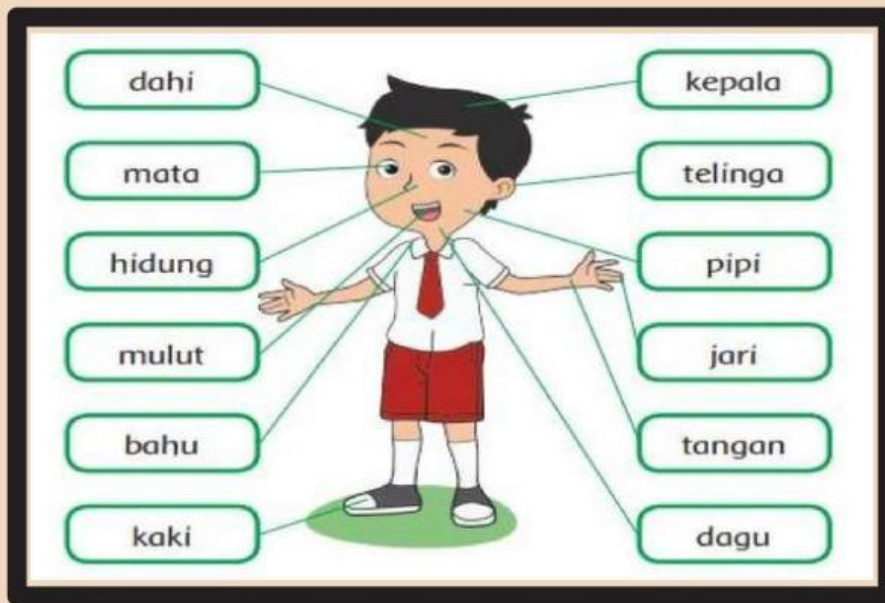


Nama :

No. Urut :

Kelas :

Gambar Anggota Tubuh



Bagian-Bagian Anggota Tubuh

a. Bagian Kepala



Rambut



Mata



Telinga



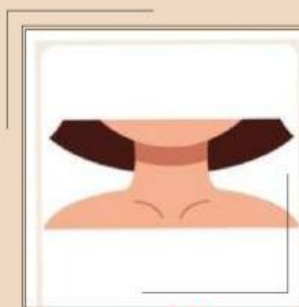
Lidah



Gigi



Hidung

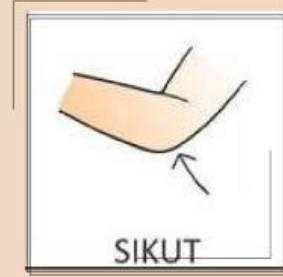


Dahi

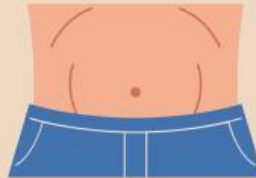


Bulu Mata

b. Bagian Badan



Dada



Perut



Pundak

c. Bagian Kaki



Tumit



Lutut



Jari Kaki

Fungsi Bagian-Bagian Tubuh



Mata untuk melihat



Telinga untuk mendengar



Hidung untuk membau dan bernafas



Lidah untuk mengecap rasa



Tangan untuk memegang



Kaki untuk berjalan

LATIHAN SOAL

A. Pilihlah jawaban yang paling benar !

1.



Bagian tubuh ini dinamakan...

- a. tangan
- b. mata
- c. kaki

2.



Bagian tubuh berfungsi untuk...

- a. melihat
- b. merasakan
- c. membau dan bernafas

3.



Bagian tubuh kita untuk mengecap rasa adalah...

- a. mulut
- b. lidah
- c. gigi

4. Bagian tubuh kita yang berfungsi melindungi kepala disebut...

- a. rambut
- b. topi
- c. kepala

5. Untuk mengambil sesuatu kita menggunakan...

- a. kaki
- b. mulut
- c. tangan

B. Isilah titik-titik di bawah ini dengan jawaban yang benar!

1.



Gambar bagian tubuh di samping adalah...

2.



Gambar bagian tubuh ini dinamakan...

3. Bagian tubuh yang digunakan untuk melihat adalah...

4. Bagian tubuh yang berfungsi untuk mendengar, yaitu...

5. Lidah berfungsi untuk...

C. Pasangkan dengan cara menarik garis, gambar dengan nama bagian tubuh !

1.



Gigi

2.



Bulu mata

3.



Jari kaki

4.



Pundak

5.



Mata