

LEMBAR KERJA PESERTA Didik

Nama Kelompok:

- | | |
|----|----|
| 1. | 4. |
| 2. | 5. |
| 3. | 6. |

Petunjuk pengerjaan :

1. Diskusikanlah dengan kelompokmu!
2. Jangan lupa tulis nama dan nomor pada bagian atas tabel!

Petunjuk!
Pasangkan kelompok uang logam berikut yang bernilai sama!

The worksheet shows two columns of coin groups for matching. Each group on the left has a small blue square next to it, and each group on the right is enclosed in an oval with a purple dot.













Left Column (Groups to be matched):

- Group 1: One 500 Rupiah coin.
- Group 2: One 1000 Rupiah coin.
- Group 3: One 1000 Rupiah coin and one 500 Rupiah coin.
- Group 4: Two 1000 Rupiah coins.
- Group 5: One 1000 Rupiah coin, one 500 Rupiah coin, and one 100 Rupiah coin.

Right Column (Groups to be matched):

- Group 1: One 1000 Rupiah coin, four 200 Rupiah coins, and two 100 Rupiah coins.
- Group 2: One 1000 Rupiah coin, one 200 Rupiah coin, and one 100 Rupiah coin.
- Group 3: Two 500 Rupiah coins.
- Group 4: Four 200 Rupiah coins and two 500 Rupiah coins.
- Group 5: Three 500 Rupiah coins, one 200 Rupiah coin, and one 100 Rupiah coin.

Urutkan dari yang nilainya terkecil!

1.			
	<input type="text"/>	<input type="text"/>	<input type="text"/>
2.			
	<input type="text"/>	<input type="text"/>	<input type="text"/>
3.			
	<input type="text"/>	<input type="text"/>	<input type="text"/>
4.			
	<input type="text"/>	<input type="text"/>	<input type="text"/>

5. Ayah Siti sangat menyukai suasana desa. Karena di desa terdapat bermacam-macam hasil pertanian. Ada sayur-sayuran, dan juga buah-buahan. Kita dapat membeli sayur dan buah dengan berbagai pecahan uang. Berikut harga-harganya.



1 ikat kacang
panjang
Rp500,00



1 kg tomat
Rp2.000,00



1 sisir pisang
Rp5.000,00



1 ikat bayam
Rp1.000,00

Berdasarkan harga sayur dan buah di atas, jawablah pertanyaan berikut!

- Barang apa yang harganya paling murah?
- Barang apa yang harganya paling mahal?
- Urutkan barang-barang di atas dari harganya yang paling murah!
- Urutkan barang-barang di atas dari harganya yang paling mahal!
- Berapa yang harus ibu bayar jika ibu membeli 2 ikat bayam dan 1 sisir pisang?