

Nama :

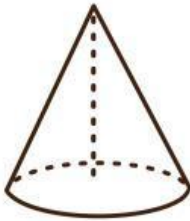
Kelas :

Bangun Ruang

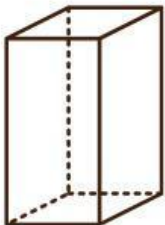
Pasangkan nama bangun yang sesuai dengan gambar yang diberikan.



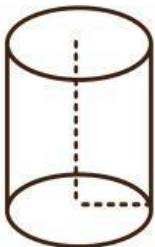
Kerucut



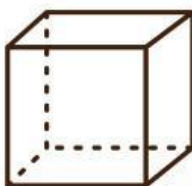
Bola



Kubus



Balok



Tabung

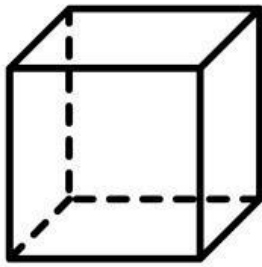
Nama : _____

Kelas : _____

Bangun Ruang

Hitunglah banyak rusuk, sisi, dan titik sudut bangun ruang berikut!

1.

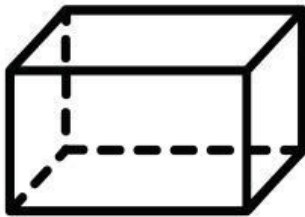


Banyak Sisi :

Banyak Rusuk :

Banyak Titik Sudut :

2.

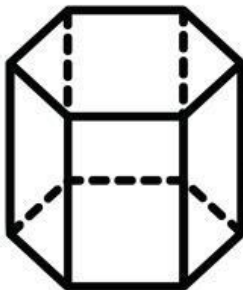


Banyak Sisi :

Banyak Rusuk :

Banyak Titik Sudut :

3.



Banyak Sisi :

Banyak Rusuk :

Banyak Titik Sudut :

4.




Banyak Sisi :

Banyak Rusuk :

Banyak Titik Sudut :

5.



Banyak Sisi :

Banyak Rusuk :

Banyak Titik Sudut :