



Unnes

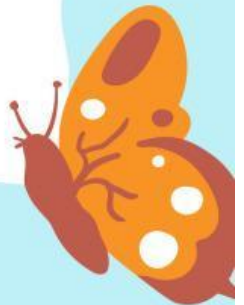


LKPD

LEMBAR KERJA PESERTA DIDIK BAB 1, TOPIK B MELIHAT KARENA CAHAYA



Disusun Oleh: Khana Ulin Nuha
(1401422098)



TOPIK B

MELIHAT KARENA CAHAYA

TUJUAN PEMBELAJARAN:

1. Menyebutkan bagian dan fungsi dalam mata
2. Menjelaskan bagian dan fungsi dalam mata

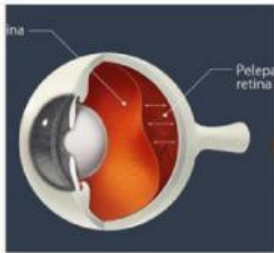
PETUNJUK Pengerjaan:

1. Siswa menjawab apa saja bagian dalam mata
2. Siswa di minta menjelaskan fungsi dari bagian dalam mata
3. siswa diminta mencocokkan gambar



Nama: _____ Kelas: _____

COCOKKAN GAMBAR DIBAWAH INI



alis



retina

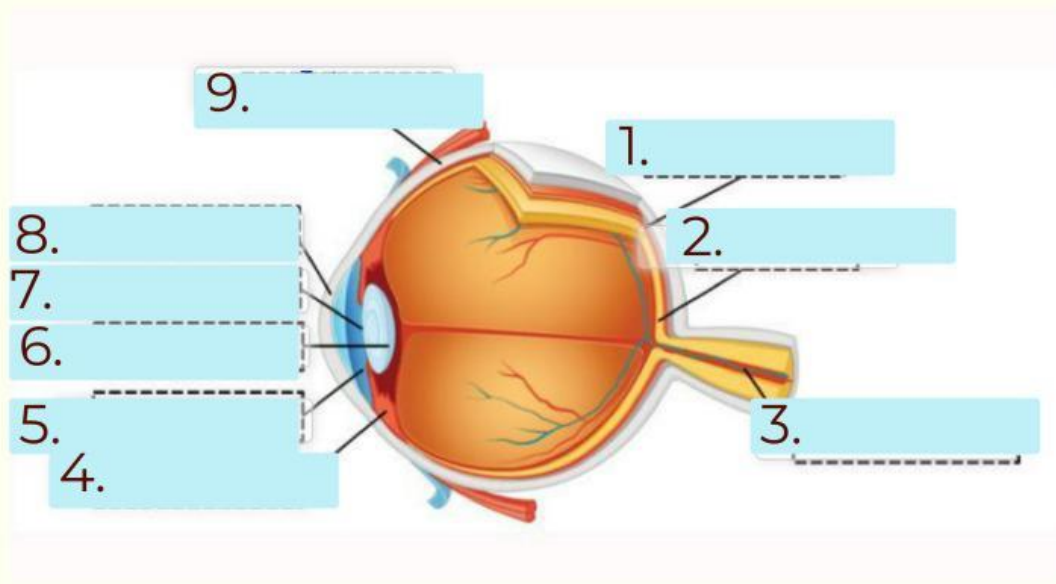


kornea



Nama: _____ Kelas: _____

SEBUTKAN DAN JELASKAN BAGIAN BAGIAN MATA DAN FUNGSINYA



JAWABAN:

- 1.
- 2.
- 3.
- 4.
- 5.
- 6.
- 7.
- 8.
- 9.



