

Nama : _____

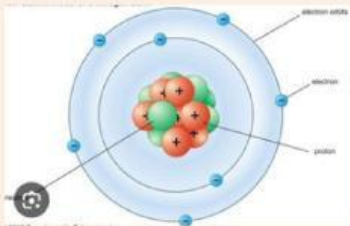
Tanggal : _____

Kelas : _____

Hari : _____

LKPD Kimia

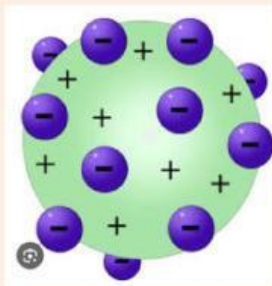
Hubungkan gambar dan tulisan berikut sesuai dengan jawaban yang benar ! Selamat mengerjakan !



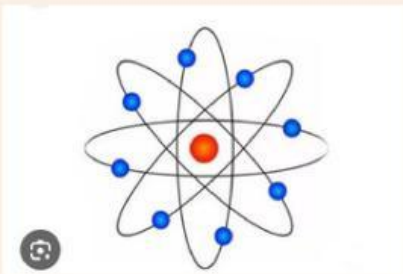
Atom yang tidak bisa di bagi lagi



Atom yang berbentuk seperti kismis



Atom yang ada lintasan nya



Memiliki tingkat energi