

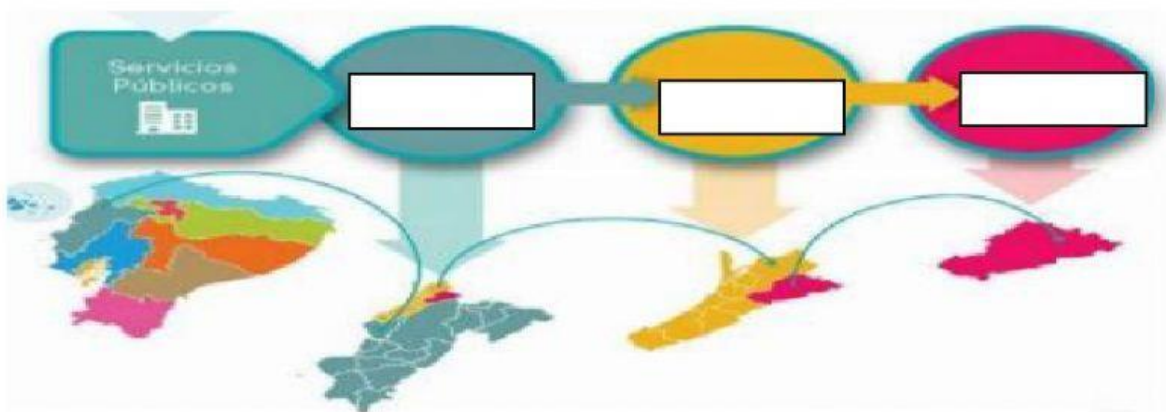


EVALUACION DE FEBRERO DE ESTUDIOS SOCIALES

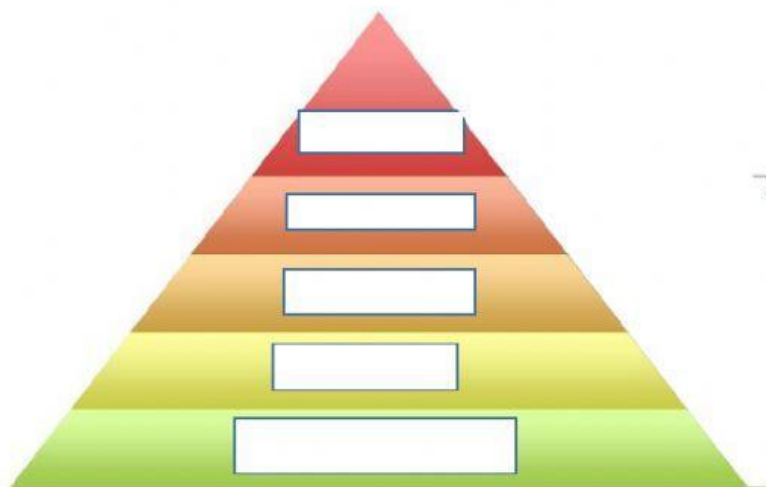
A. Escriba verdadero (V) o falso (F) según corresponda

1. Las zonas administrativas se crearon para acercar el Estado al pueblo.
2. Las regiones naturales del Ecuador forman las zonas administrativas.
3. Las zonas administrativas Están conformadas por provincias cercanas.
4. El total de las Zonas administrativas en el Ecuador son 4.

B. Escriba los nombre de acuerdo a la organización del Ecuador, según muestra la imagen.



C. EN LOS RECUADROS ESCRIBA LOS NIVELES DE ORGANIZACIÓN DEL ECUADOR (ESTADARES)





ESCUELA DE EDUCACIÓN BÁSICA PARTICULAR

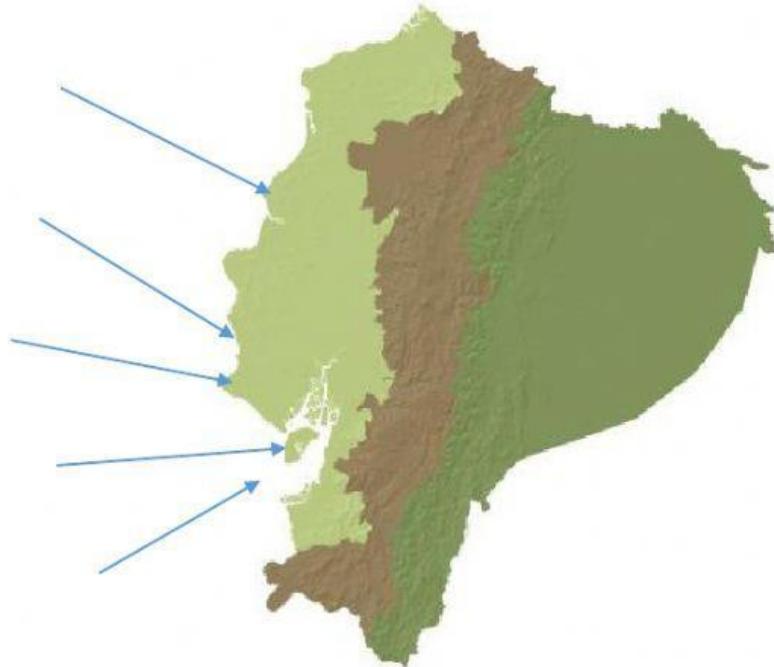
"SAN JOSÉ DE PAUTE"

"EDUCAMOS CON SUAVIDAD Y FIRMEZA"

CANTÓN PAUTE, BARRIO Cachiyacu. AV. Antonio Mancilla N°8- 70

Telf. 2250800, cel. 0939737805

- D. ESCRIBA EL NOMBRE DEL ACCIDENTE GEOGRÁFICO DE LA COSTA ECUATORIANA, QUE INDICA LA FLECHA



- E. Complete con el nombre de los accidentes geográficos de acuerdo a la definición.

1. Entrada de agua menor que una Bahía.
2. Entrada muy grande de mar al continente.
3. Trozo de tierra rodeada totalmente de agua en el mar
4. Grandes pendientes de suelo que se ha erosionan con el golpe de las olas del mar.
5. Planicies que se encuentran en las riberas del mar o de los ríos, cubiertas de arena.