

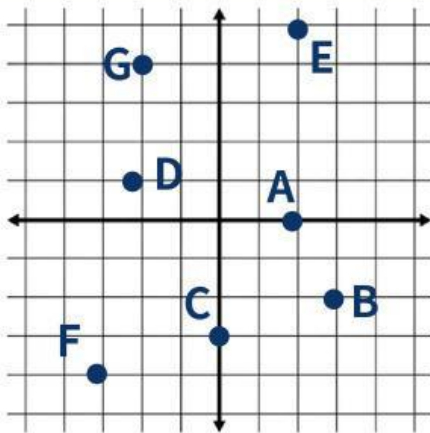
Nama :

Kelas :

LKPD - Bidang Koordinat

Perhatikan bidang koordinat berikut dan jawab pertanyaan

1



Titik yang terletak pada :

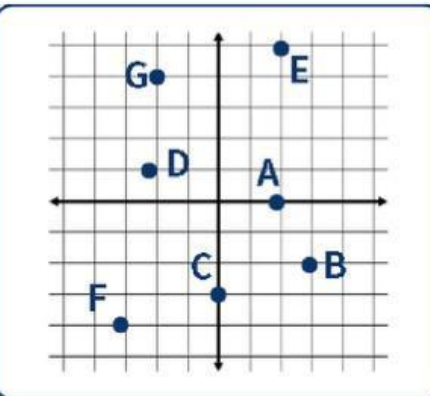
Kuadran I

Kuadran II

Kuadran III

Kuadran IV

2



Titik

Koordinat

A

(,)

B

(,)

D

(,)

F

(,)

3

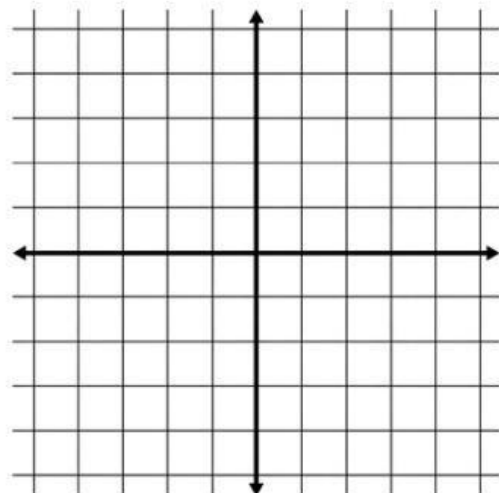
Hubungkan titik berikut pada bidang Cartesius disamping

P (5, -3)

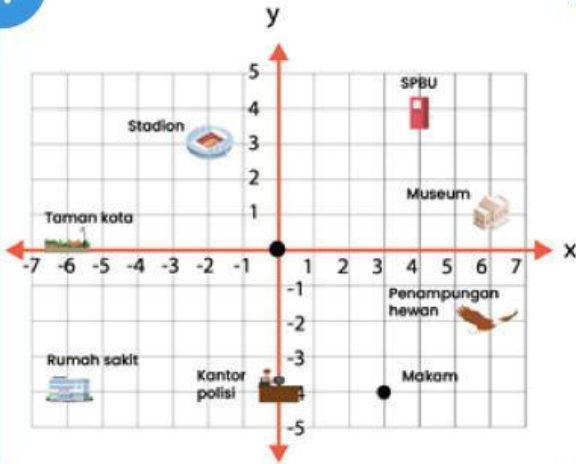
Q (-2, -3)

R (3, 4)

S (-4, 3)



4



Lokasi	Jarak terhadap sumbu X	Jarak terhadap sumbu Y
Stadion	satuan	satuan
SPBU	satuan	satuan
Makam	satuan	satuan
Rumah Sakit	satuan	satuan
Taman Kota	satuan	satuan
Museum	satuan	satuan

5

Sistem Koordinat Cartesius terdiri dari sumbu

Sumbu mendatar atau horizontal pada bidang cartesius disebut ...

Sumbu tegak atau vertikal pada bidang cartesius disebut ...

Sumbu Koordinat membagi bidang cartesius menjadi kuadran

Kuadran yang memiliki nilai x positif dan nilai y negatif adalah kuadran ...

Kuadran yang memiliki nilai x negatif dan nilai y negatif adalah kuadran ...

4

III

X

2

Y

IV

Selamat belajar semoga sukses