

# САМОСТІЙНА РОБОТА

## Задачі на відсотки

1) Перетвори відсотки у десяткові дробки (вписуй одразу відповідь):

$9\% =$

$35\% =$

$100\% =$

$40\% =$

$0,5\% =$


$210\% =$

2) Перетвори десяткові дробки на відсотки (вписуй одразу відповідь):

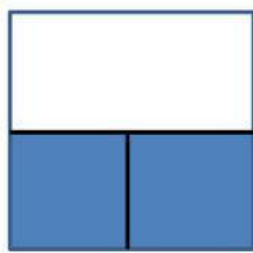
$0,12 = \quad \% \quad 0,8 = \quad \% \quad 4 = \quad \%$

$0,0013 = \quad \% \quad 120 = \quad \%$

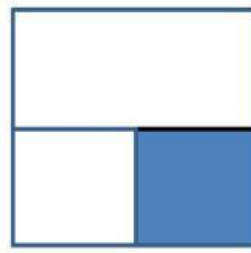
3) Скільки відсотків квадрата зафарбовано на рисунках:



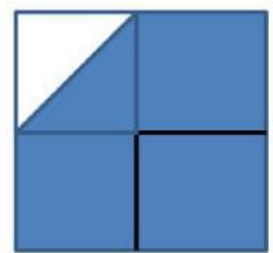
%



%



%



%

4) Обчисли:

**5% від числа 37**

$\cdot \quad =$

**32% від числа 150**

$\cdot \quad =$

5) Обчисли:

**число, 16% якого становлять 80**

**:** **=**

**число, 2,5% якого становлять 12,4**

**:** **=**

6) До магазину завезли 200 банок варення. 24% цієї кількості становили банки з полуничним варенням, 32% — з малиновим, а решту — з вишневим. Скільки банок вишневого варення завезли до магазину?

1) **· = (б.) — з полуничним варенням**

2) **· = (б.) — з малиновим варенням**

3) **— ( + ) = (б.) — з вишневим варенням**

**Відповідь:                    банок.**