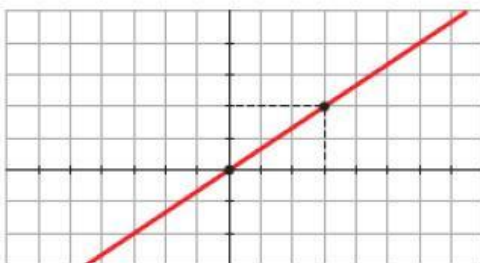
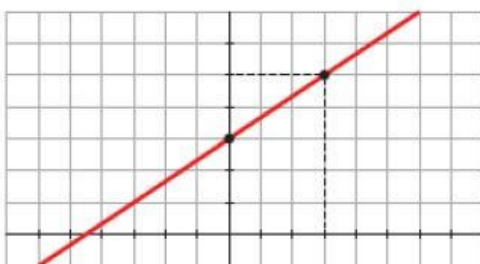


Determinar la ecuación de una recta _ Actividad 1

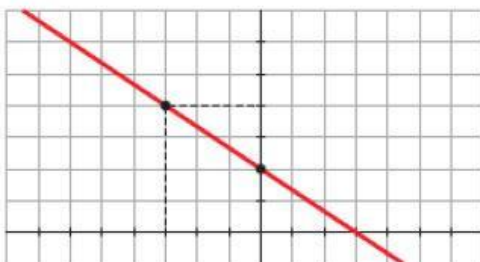
Escribe la pendiente, la ordenada en el origen y la ecuación de cada recta:



$$m = \boxed{}; n = \boxed{}; y = \boxed{}$$



$$m = \boxed{}; n = \boxed{}; y = \boxed{}$$



$$m = \boxed{}; n = \boxed{}; y = \boxed{}$$