

Nama : _____


Tanggal : _____

Kelas : _____

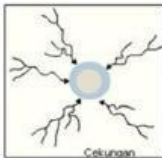
Hari : _____

LKPD HIDROSFER

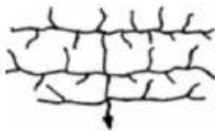
1. Hubungkan gambar dan tulisan berikut sesuai dengan jawaban yang benar !



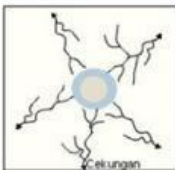
pola aliran yang menyebar meninggalkan pusatnya yang berbentuk kerucut. Ditemukan di daerah dome



pola aliran yang induk dan anak-anak sungainya membentuk sudut tegak lurus. Ditemukan di daerah lipatan



pola aliran yang membentuk sudut siku-siku. Ditemukan di daerah patahan



pola aliran sungai yang membentuk lingkaran. Ditemukan di daerah dome



pola aliran yang tidak teratur mirip seperti cabang-cabang pohon. Ditemukan di daerah plato



pola aliran yang mengumpul menuju ke pusat atau cekungan. Ditemukan di daerah cekungan

2. Pasangkanlah fungsi sungai dibawah ini dengan gambar yang tersedia !

Menampung air hujan


Sumber kehidupan

Pengendali banjir

Pembangkit tenaga listrik

Tempat olahraga dan wisata

Pusat ekosistem



3. Tuliskan nama dan penjelasan gambar dibawah ini !

.....
.....



Berdasarkan Gambar diatas
tuliskan ciri ciri bagian bagian berikut !

1.Hilir

- a.
- b.
- c.
- d.

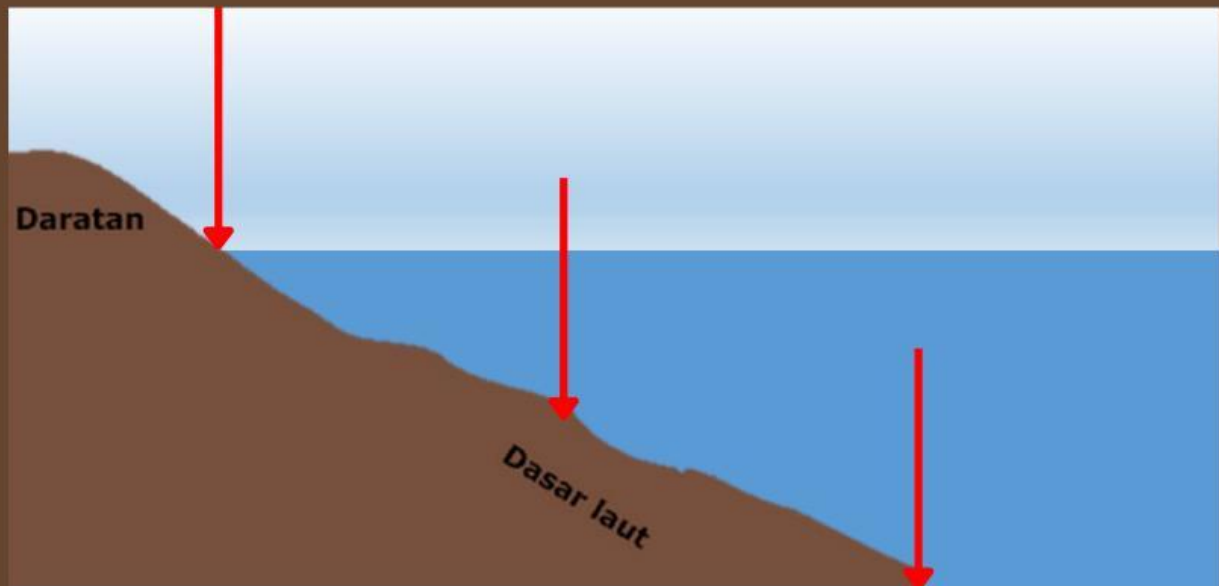
2.tengah

- a.
- b.
- c.
- d.

3.Hilir

- a.
- b.
- c.
- d.

4. Perhatikan zona laut berikut !



Tuliskan nama dan karakteristik wilayah laut berdasarkan gambar diatas

1.....

Karakteristiknya adalah

.....

2.....

Karakteristiknya adalah

.....

3.....

Karakteristiknya adalah

.....

5. Perhatikan wilayah tepi pantai berikut !



1. Deskripsikanlah kondisinya !

2 Tuliskan penyebab kondisi tersebut!

3. Tuliskan upaya pelestariannya !