



LKPD

LEMBAR KERJA PESERTA DIDIK BANGUN DATAR



Disusun Oleh:

Fitria Khairani Salsabila

Nama:

Kelas:

No :

Lingkaran

Segi enam

Segitiga

Layang layang

Persegi

Trapesium

Jawablah soal berikut dengan memilih jawaban dari kolom diatas!

1. Bangun datar yang jumlah sisinya 4 adalah...
2. Bangun datar yang jumlah sisinya 3 adalah...
3. Bangun datar yang tidak memiliki titik sudut adalah...
4. Bangun datar yang memiliki sepasang sisi sejajar adalah...
5. Bangun datar yang jumlah sisinya 6 adalah...
6. Bangun datar yang memiliki satu sumbu simetri putar adalah...



Pasangkan dengan yang tepat!




Persegi



Lingkaran



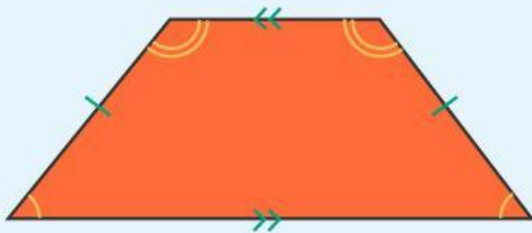
Segitiga



Persegi panjang



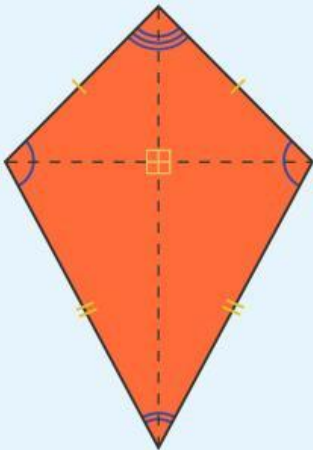
Isilah titik-titik di dalam kolom sesuai bentuk gambar yang disajikan!



.....



.....



.....



.....



Kerjakan soal isian berikut ini!

1. Jumlah sisi persegi adalah...
2. Jumlah titik sudut segitiga adalah...
3. Jumlah sisi segi enam adalah...
4. Jumlah titik sudut jajar genjang adalah...
5. Jumlah sisi trapesium adalah...
6. Luas persegi adalah...
7. Luas segitiga adalah...
8. Luas pesegi panjang...
9. Keliling segitiga adalah...
10. Keliling persegi adalah...

