



Nama : \_\_\_\_\_

Kelas : \_\_\_\_\_



# Bangun Datar

Hitunglah banyak sudut, sisi, dan titik sudut bangun ruang berikut!

- 



Banyak Sisi : .....

Banyak Sudut : .....

Banyak Titik Sudut : .....
- 



Banyak Sisi : .....

Banyak Sudut : .....

Banyak Titik Sudut : .....
- 



Banyak Sisi : .....

Banyak Sudut : .....

Banyak Titik Sudut : .....
- 

Banyak Sisi : .....

Banyak Sudut : .....

Banyak Titik Sudut : .....
- 

Banyak Sisi : .....

Banyak Sudut : .....

Banyak Titik Sudut : .....