




LEMBAR KERJA PESEERTA DIDIK (LKPD)



BANGUN DATAR



Kelompok _____

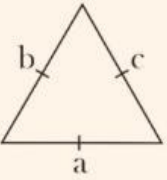
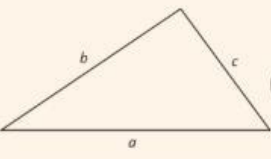

Anggota _____

Kelas VII

AKTIVITAS 1



Carilah pasangan dari segitiga di bawah ini!

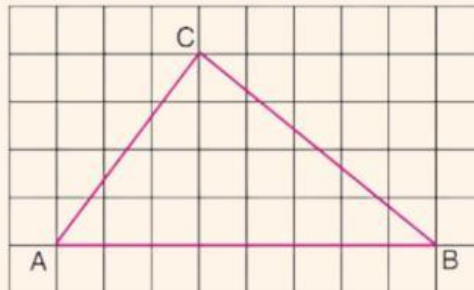
	<input type="radio"/>	<input type="radio"/> Segitiga sembarang
	<input type="radio"/>	<input type="radio"/> Segitiga sama kaki
	<input type="radio"/>	<input type="radio"/> Segitiga sama sisi
		<input type="radio"/> Segitiga siku-siku
		<input type="radio"/> Segitiga tumpul

Apabila kalian sudah bisa membedakan segitiga sama sisi, segitiga sama kaki, dan segitiga sembarang, coba tuliskan sifat-sifat dari ketiga segitiga tersebut!

AKTIVITAS 2



Berapa luas daerah segitiga ABC di bawah ini?



Rizky berlari mengelilingi lapangan berbentuk segitiga dengan ukuran sisinya 23 m, 37 m, dan 44 m. Rizky berlari 2 kali putaran. Berapa ukuran lintasan lari yang dilakukan oleh Rizky?