


שם:

# שברים על ישר המספרים


שאלה 1

סמנו את ישר המספרים שבו המספר  $\frac{7}{5}$  מופיע במיקום הנכון:




שאלה 2

נתון ישר מספרים סמנו את המשבצת המייצגת את המספר 1




שאלה 3

לפניכם ישר מספרים. רשמו את השברים המתאימים



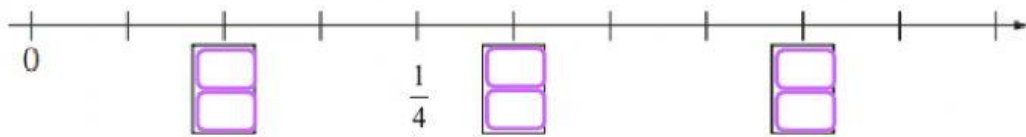
שאלה 4

סמנו את ישר המספרים שבו המספר  $\frac{6}{7}$  מופיע במיקום הנכון:



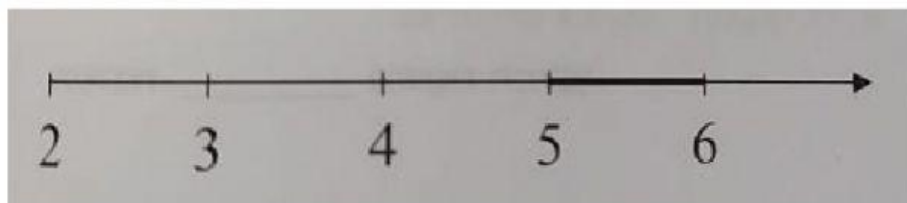
שאלה 5

השלימו את המספרים החסרים במשבצות.



שאלה 6

לפניכם קטע מודגש על ישר המספרים. בחרו את המספר שנמצא בקטע המודגש.



- א.  $\frac{25}{4}$      
  ב.  $\frac{16}{3}$      
  ג.  $\frac{17}{4}$      
  ד.  $\frac{13}{3}$