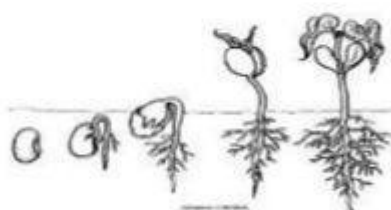


Aluno (a): _____

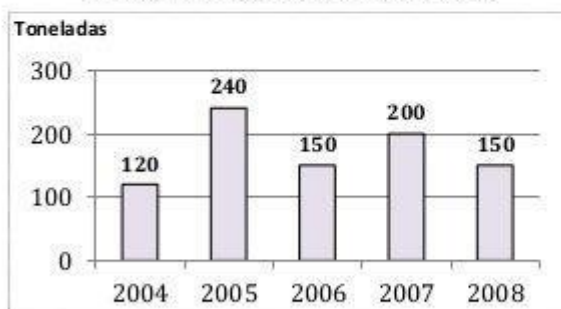
Data: ____/____/____

ATIVIDADE

1. O gráfico representa a produção, em toneladas, de feijão em uma fazenda no período de 2004 a 2008.



Produção de Feijão de 2004 a 2008

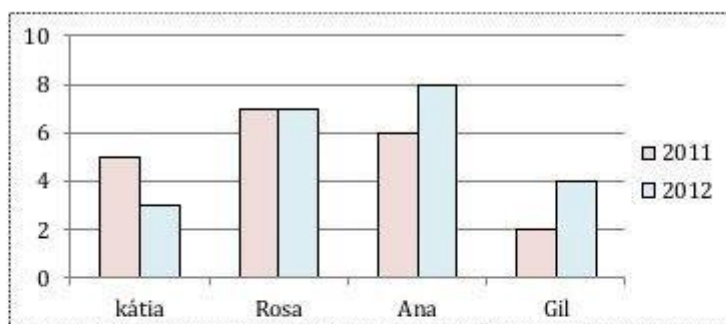


- a) Qual foi a produção, em toneladas, em 2004? E em 2005? _____
- b) Quando as produções foram as mesmas? _____
- c) Qual foi a produção total no período de 2004 a 2008? _____

2. Observe o gráfico.



Filmes Assistidos



- a) Qual o título do gráfico? _____
- b) De que assunto ele trata? _____
- c) Em quais desses anos Kátia assistiu mais filmes? _____
- d) Quantos filmes Rosa assistiu a mais que Gil em 2012? _____
- e) Sabendo que o aluguel de um filme na locadora custa 3 reais, quanto gastou cada um dessas pessoas em 2012? _____