

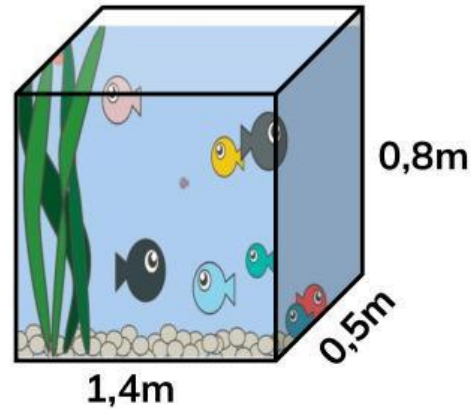
PHIẾU THI ĐẤU – GÓI SỐ 9

NHÓM: - LỚP:

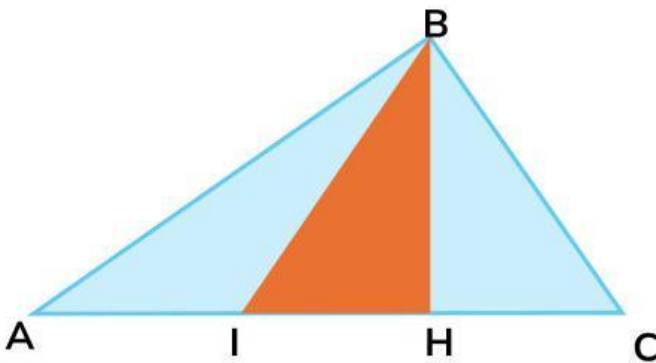


1. Bể cá sau chứa được bao nhiêu lít nước ($1\text{dm}^3 = 1\text{l}$)?

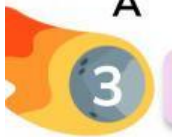
- A. 5,6ml
- B. 560l
- C. 56l
- D. $0,56\text{dm}^3$



2. Tính diện tích phần tô màu xanh của hình dưới đây.
Biết $AC = 12\text{ cm}$, $BH = 6\text{ cm}$, $IH = \frac{1}{3} AC$



- A. 24cm^2
- B. 24cm
- C. 12cm^2
- D. 12cm



3. Hãy xếp các cặp quan hệ từ vào các cột sao cho phù hợp.

- Mặc dù - Nhưng
- Do - Nên
- Càng - Càng
- Không những - mà

Các cặp quan hệ từ thể hiện mối quan hệ		
Nguyên nhân Kết quả	Tương phản	Tăng tiến



4

Đặt câu ghép miêu tả khung cảnh và không khí buổi tiệc



5

Đây là quy trình sản xuất vật liệu nào?

A. Dâu tằm

B. Kén tằm

C. Lụa

D. Áo



6

Sắp xếp lại những câu lệnh sau để thành chương trình đúng: Động cơ A quay với tốc độ 50%, chiều quay sang phải trong 3 vòng, phát âm thanh



when program starts



A

run



for

3

rotations



start sound

Applause 1



A

set speed to

50

%

