











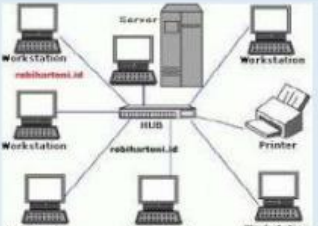







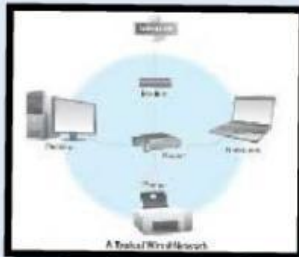
## E. SOAL LKPD

1. Jaringan komputer yang saling terhubung menggunakan standar sistem global Transmission Control Protocol/Internet Protocol Suite (TCP/IP) sebagai protokol pertukaran paket (*packet switching communication protocol*) untuk melayani miliaran pengguna di seluruh dunia. Rangkaian internet yang terbesar disebut...
  - a. Intranet
  - b. Internet
  - c. Komputer
  - d. Provider
2.
  1. Konektivitas hubungan dengan orang lain dari jarak jauh
  2. Efisiensi transfer data
  3. Kemudahan akses informasi
  4. Kemudahan berbagi file
  5. Kemudahan dalam mencari uang dan hiburanDari pernyataan no 1 – 5 di atas manakah pernyataan yang bukan merupakan manfaat jaringan computer ?
  - a. 1, 2, 3 dan 5
  - b. 1, 2, 3 dan 4
  - c. a, b benar semua
  - d. a, b salah semua
3. Pada suatu sekolah terdapat jaringan internet. Media yang digunakan untuk jaringan internet tersebut adalah wired dan wireless. Semasa pandemi COVID-19 beberapa kegiatan sekolah diadakan secara DARING. Jika pihak sekolah ingin mengadakan sebuah acara perpisahan online, maka media koneksi apakah yang sebaiknya digunakan agar sepanjang acara perpisahan online jaringan internetnya stabil....
  - a. point to point
  - b. Wireless (pendistribusian jaringan tanpa kabel)
  - c. Wired (pendistribusian jaringan menggunakan kabel)
  - d. Nirkabel
4. Dibawah ini merupakan dampak negatif atau kurang dari penggunaan internet !
  1. Maraknya Penipuan
  2. Pornografi
  3. Pencurian (Pembobol Kartu ATM)
  4. Perjudian
  5. Berkurangnya Sosialisasi Antar Sesama
  6. Kecanduan Bermain Game
  7. Merusak Kesehatan Tubuh dan pikiran (K3)Pernyataan dari Nomor 1 – 7 menurut anda manakah yang paling berpengaruh besar merusak masa depan anda nantinya ?
  - a. 1, 2, 3, 4
  - b. 4, 5, 6, 7
  - c. 2, 5, 6, 7
  - d. Tidak berpengaruh apa-apa

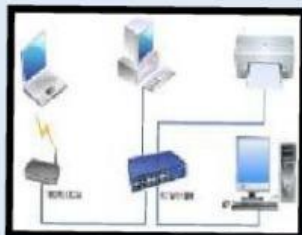
5. Dari gambar di bawah ini beri tanda manakah yang benar dan tidak benar yang merupakan jenis jaringan komputer berdasarkan wilayah cakupannya?

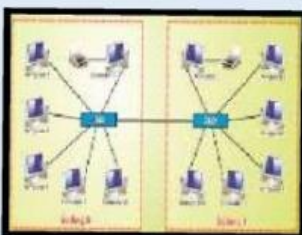
Gambar Jaringan	Jenis jaringan berdasarkan wilayah cakupan	
	 Benar	 Salah
	 Benar	 Salah
	 Benar	 Salah
	 Benar	 Salah
	 Benar	 Salah
	 Benar	 Salah

6. Cocok kan nama jaringan dan jenis jaringan komputer dengan gambar yang ada di bawah ini..!








LAN (Lokal Area Network)

PAN (Persoanal Area Network)

MAN (Metro Area Network)

WAN (Wide Area Network)

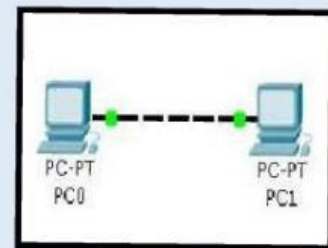
Peer To Peer

Clieen Server

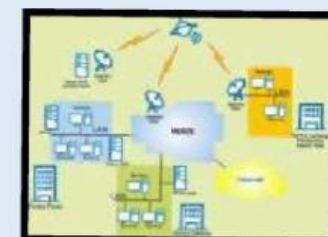
Jaringan Kabel/Wired

Jaringan Nirkabel











7. Berilah garis yang cocok dengan pernyataan di bawah ini !

Jaringan ini terdiri dari satu atau lebih komputer yang bertindak sebagai server dan beberapa komputer yang berperan sebagai client. Umumnya yang bertindak sebagai server hanya satu komputer dan komputer yang lainnya berperan sebagai client.

Jaringan komputer yang menggunakan kabel sebagai media transmisi datanya. Kabel tersebut digunakan untuk menghubungkan komputer dengan komputer lainnya agar komputer-komputer tersebut dapat saling bertukar data maupun terhubung dengan internet.

Jaringan komputer di mana, masing-masing komputer, baik komputer client maupun komputer server mempunyai peran dan kedudukan yang sama. Dengan kata lain, komputer server dapat menjadi komputer client, dan sebaliknya, komputer client pun dapat menjadi komputer server.

Sistem komunikasi global yang menghubungkan komputer-komputer dan jaringan-jaringan komputer diseluruh dunia.

Jenis jaringan yang tidak menggunakan kabel sebagai media transmisinya. Pertukaran informasi/data antar komputer menggunakan gelombang elektromagnetik.

Jaringan Peer To Peer

Jaringan Clien Server

Wired Network

Wireless Network

Internet