

# EVALUASI

## Materi Pola Gambar dan Pola Bilangan

### Identitas Peserta Didik

Nama: \_\_\_\_\_

Kelas: IV-A

**Kerjakan soal-soal berikut dengan benar!**

**Amatilah gambar berikut untuk mengerjakan soal nomor 1 sampai 4!**



Pak Didi seorang nelayan. Pak Didi sedang menjemur ikan rebang hasil tangkapannya untuk diawetkan menjadi olahan *iwak karing rebang* (ikan asin rebang) makanan khas Kalimantan Timur. Pak Didi menyusun ikan-ikannya sehingga membentuk pola.

1. Tandailah pola berikut yang merupakan pola gambar membesar dengan tanda (✓)!  
Kamu bisa memilih lebih dari satu jawaban.

				<input type="checkbox"/>
				<input type="checkbox"/>
				<input type="checkbox"/>
				<input type="checkbox"/>

2. Tandailah pola berikut yang merupakan pola gambar mengecil dengan tanda (✓)!  
Kamu bisa memilih lebih dari satu jawaban.

				<input type="checkbox"/>
				<input type="checkbox"/>
				<input type="checkbox"/>
				<input type="checkbox"/>

3. Pak Didi menjemur ikan rebang di atas beberapa nampun bambu yang disusun berjajar. Nampun pertama berisi 7 ikan, nampun kedua berisi 14 ikan, nampun ketiga berisi 21 ikan, dan seterusnya. Tandailah dengan (✓) benar atau salah pernyataan berikut:

No.	Pernyataan	Benar	Salah
a.	Nampun keempat berisi 28 ikan	<input type="checkbox"/>	<input type="checkbox"/>
b.	Nampun kelima berisi 30 ikan	<input type="checkbox"/>	<input type="checkbox"/>
c.	Susunan ikan tersebut berpola "bertambah 7"	<input type="checkbox"/>	<input type="checkbox"/>
d.	Susunan ikan tersebut membentuk pola bilangan mengecil	<input type="checkbox"/>	<input type="checkbox"/>

4. Setelah kering, Pak Didi menggantung ikan-ikan tersebut di etalase. Gantungan ikan rebang tersebut membentuk pola bilangan dengan aturan "berkurang 6", dimulai dari gantungan pertama sebanyak 36 ikan. Tandailah dengan (✓) benar atau salah pernyataan berikut:

No.	Pernyataan	Benar	Salah
a.	Banyak ikan pada gantungan ketiga adalah 24	<input type="checkbox"/>	<input type="checkbox"/>
b.	Banyak ikan pada gantungan ketiga adalah 26	<input type="checkbox"/>	<input type="checkbox"/>
c.	Susunan ikan tersebut membentuk pola bilangan mengecil	<input type="checkbox"/>	<input type="checkbox"/>
d.	Banyak ikan pada gantungan kedua adalah 32	<input type="checkbox"/>	<input type="checkbox"/>




Amatilah gambar kue *serabai Kutai* berikut untuk mengerjakan soal nomor 5, 6, dan 7!




*Serabai Kutai* adalah salah satu kue basah tradisional khas masyarakat Kutai Kalimantan Timur. *Serabai* memiliki cita rasa yang manis gurih dengan aroma khas hasil pembakaran menggunakan tungku. *Serabai* disajikan dengan bungkus selembar daun pisang yang dilipat dan biasanya disantap saat sarapan.




Lengkapilah pola berikut dengan menarik garis dari titik pertanyaan ke titik jawaban sesuai dengan jawaban yang benar!


5. 

		...		<input type="checkbox"/>
---	---	-----	---	--------------------------




<input type="checkbox"/>	
--------------------------	---


6. 

			...	<input type="checkbox"/>
---	---	---	-----	--------------------------

<input type="checkbox"/>	
--------------------------	---

7. 

...				<input type="checkbox"/>
-----	---	---	---	--------------------------

<input type="checkbox"/>	
--------------------------	---

Lengkapilah pola bilangan berikut dengan mengisi titik-titik sesuai jawaban yang benar!

8. 

...	16	24	...	40
-----	----	----	-----	----

9. 

25	...	15	10	5
----	-----	----	----	---

10. 

45	36	27	18	...
----	----	----	----	-----

**SELAMAT MENGERJAKAN!**

