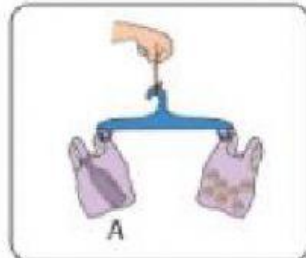


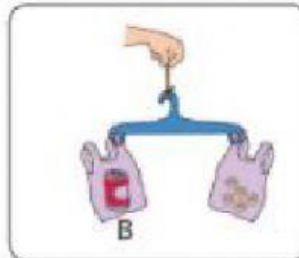
Sekarang, jawablah soal-soal berikut ini.

Berilah tanda centang (✓) pada benda yang lebih berat.

1.



Berat A = 7 kelereng



Berat B = 5 kelereng

Mana yang lebih berat?

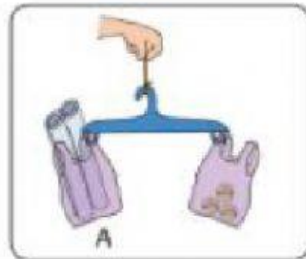
A



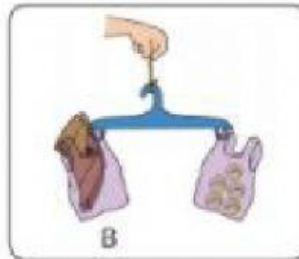
B



2.



Berat A = ... kelereng



Berat B = ... kelereng

Mana yang lebih berat?

A



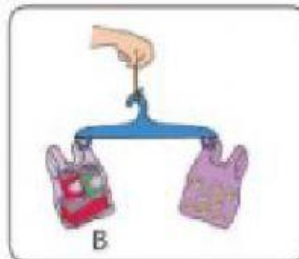
B



3.



Berat A = ... kelereng



Berat B = ... kelereng

Mana yang lebih berat?

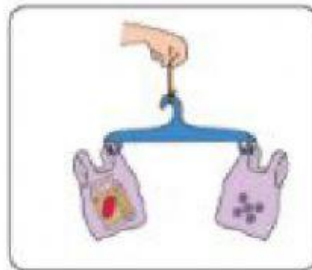
A



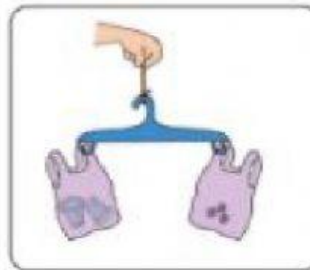
B



4.



Berat A = ... kelereng



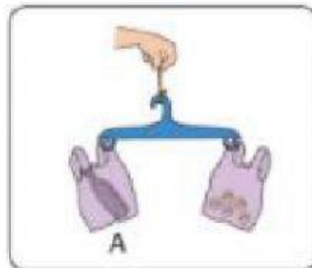
Berat B = ... kelereng

Mana yang lebih berat?

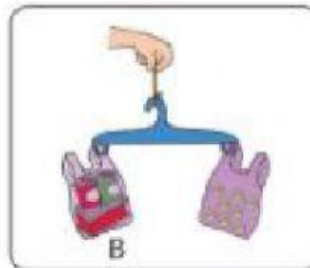
A

B

5.



Berat A = ... kelereng



Berat B = ... kelereng

Mana yang lebih berat?

A

B