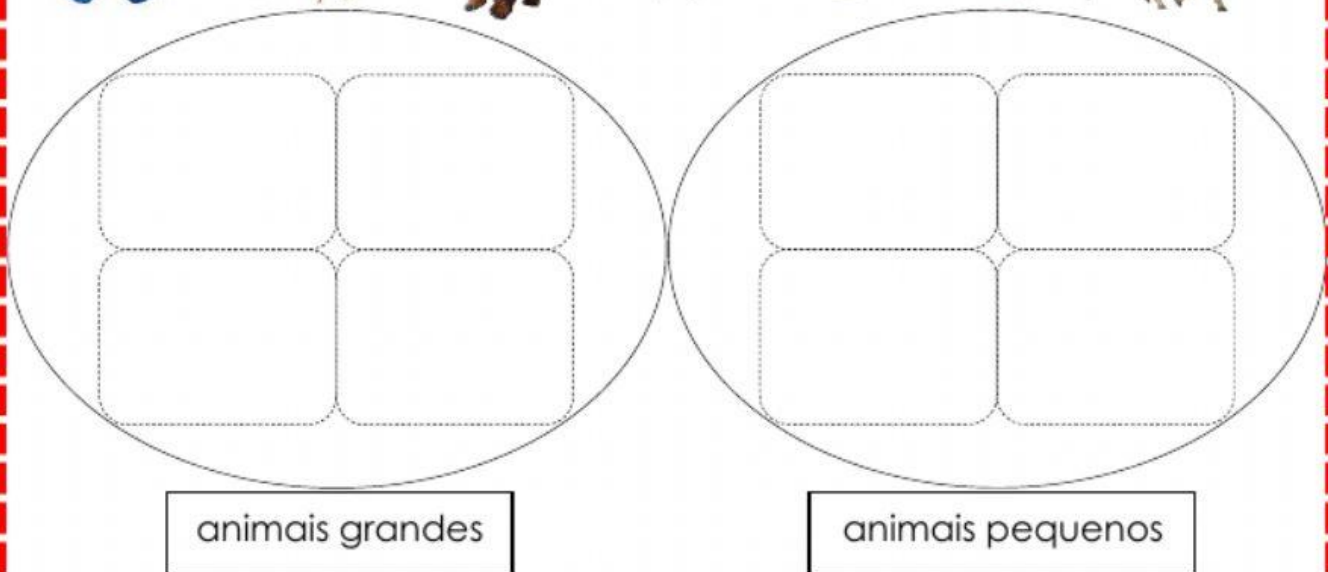




O **Diagrama de Venn** não tem nada de complicado. É só uma maneira de arrumar elementos em conjuntos.
Em cada conjunto todos os elementos têm uma coisa igual ou parecida.

1. Coloca os animais no conjunto correto de acordo com o seu tamanho na vida real.



- a. Quantos elementos tem o conjunto dos animais grandes?

1 2 3 4 5

E o conjunto dos animais pequenos, quantos elementos tem?

1 2 3 4 5

- b. Qual é o conjunto com mais elementos?

O conjunto dos animais grandes.

O conjunto dos animais pequenos.

2. Observa estes meninos e os gelados que eles mais gostam. Coloca o nome de cada um no conjunto correto.



Lena

Nuno

Ana


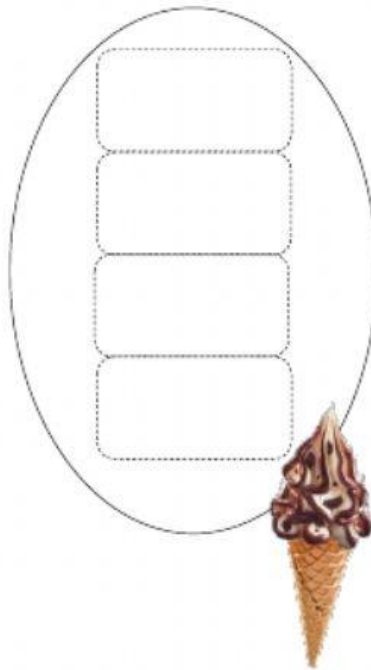
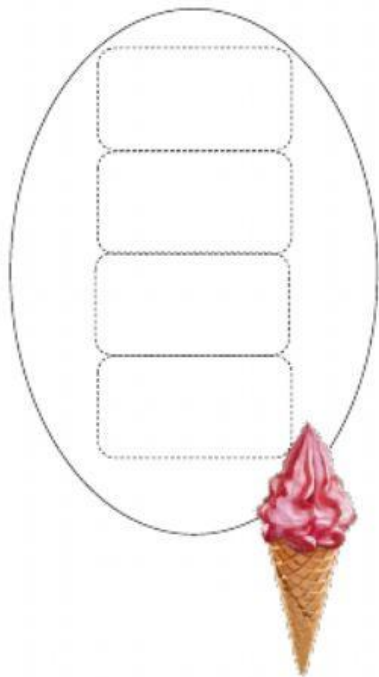
Paulo

Eva

Tomé

Mila

Vitó



a. Quantas crianças é que gostam mais do gelado de baunilha?

1

2

3

4

5

b. Quantas crianças gostam mais do gelado de morango?

1

2

3

4

5

c. Qual é o gelado do qual mais crianças gostam?

