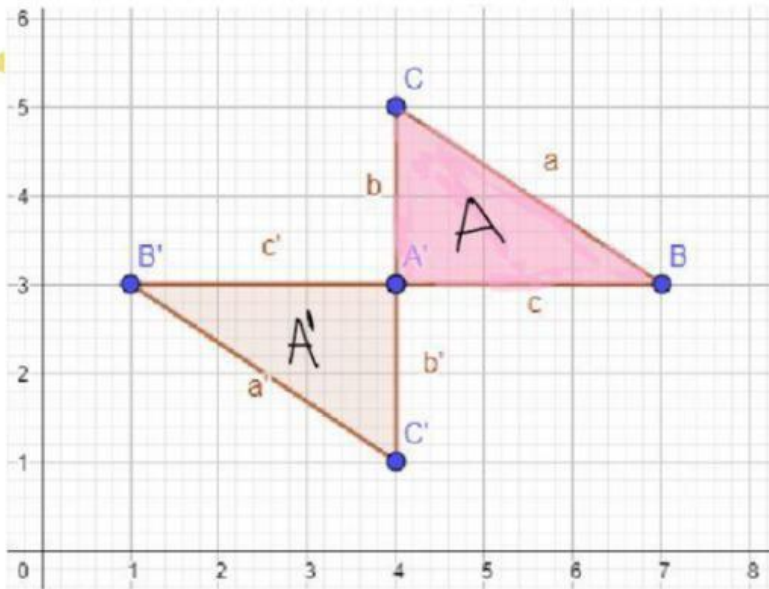


ROTACIÓN

Observa cada traslación y selecciona cuántos grados rotó la figura.

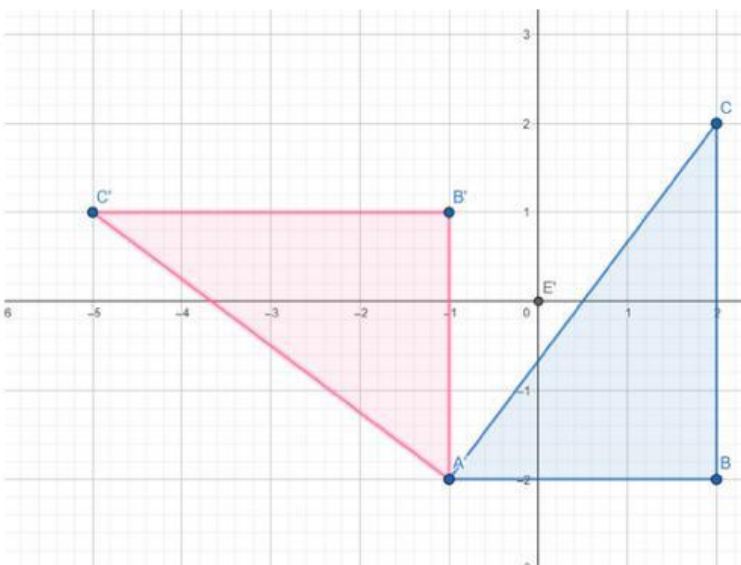


180° a la izquierda

180° a la derecha

90° a la izquierda

90° a la izquierda



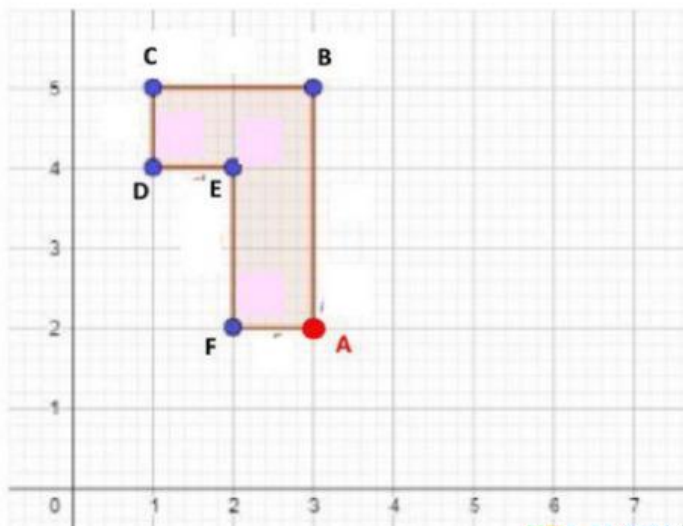
180° a la izquierda

180° a la derecha

90° a la izquierda

90° a la izquierda

Al rotar la figura en torno al origen, en 90° en sentido horario, los vértices B, C, D, E y F quedarán en las coordenadas:



B' (,)

C' (,)

D' (,)

E' (,)

F' (,)