



E LKPD

MEAN, MEDIAN DAN MODUS




1. Jodohkan istilah berikut dengan menarik garis ke jawaban yang paling tepat.


Mean

 Nilai yang sering muncul dalam suatu kelompok data

Median

 Nilai tengah data setelah diurutkan

Modus

 nilai rata - rata suatu kelompok data

2. Minggu kemarin ada ujian di sekolahnya Fita, iapun belajar dengan sungguh - sungguh agar nilai ujiannya bagus. beberapa hari setelah ujian diadakhn, Fita pun menerima semua nilai dari setiap mata pelajarn. Maka diperoleh data berikut :

- PAI : 86
- Pkn : 80
- Matematika : 90
- B. Indonesia : 89
- Penjaskes : 80
- IPA : 92
- Prakarya : 80
- IPS : 85
- Informatika : 88
- B. Inggris : 90

Dari data di atas urutkanlah dari yang terkecil sampai yang terbesar :



Dari data di atas tentukan :

Mean =

Median =

Modus =

**GOOD
LUCK**