

LKPD

LEMBAR KERJA PESERTA DIDIK

Pancaindra (Indera Pengecap)

Fase B/Kelas IV



Disusun oleh : Luqna Ikhtiara Fadianti

Nama :

No :

Pentunjuk Pengerjaan!

- Berdoalah terlebih dahulu sebelum memulai
- Isi identitas yang sudah disediakan
- Kerjakan LKPD dengan teliti dan tepat

Simak terlebih dahulu video pembelajaran berikut sebagai penguatan!





Setelah menonton video pembelajaran!

Berikut silahkan kerjakan soal pilihan ganda berikut ini dengan klik jawaban a, b, c, dan d dengan teliti dan tepat!

1. Perhatikan jenis-jenis pancaindra di bawah ini!

- 1) Lidah
- 2) Telinga
- 3) Hidung
- 4) Mata

Dari jenis-jenis pancaindra tersebut, organ bagian mana yang digunakan untuk mengecap ditunjukkan pada nomor

- a. 1
- b. 2
- c. 3
- d. 4

2. Perhatikan 4 bagian utama lidah di bawah ini!

- 1) Ujung lidah
- 2) Pinggir lidah
- 3) Ujung dan ujung-tengah lidah
- 4) Pangkal atau belakang lidah

Dari empat bagian utama fungsi lidah bagian yang berfungsi sebagai pengecap rasa asin ditunjukkan pada nomor

- a. 1
- b. 2
- c. 3
- d. 4

3. Perhatikan fungsi utama lidah di bawah ini!

- 1) Merasakan sentuhan
- 2) Alat berbicara
- 3) Membantu menelan makanan

4) Mengidentifikasi rasa makanan

Dari empat fungsi utama lidah pada pilihan tersebut, pilihan yang tidak tepat ditunjukkan pada nomor

- a. 1
- b. 2
- c. 3
- d. 4

4. Perhatikan beberapa rasa pada lidah di bawah ini!

- 1) Pedas dan asam
- 2) Asin dan manis
- 3) Manis dan pedas
- 4) Pahit dan dingin

Dari beberapa pilihan rasa pada indera pengecap yang termasuk pilihan rasa pada indera pengecap yang tepat ditunjukkan pada nomor

- a. 1
- b. 2
- c. 3
- d. 4

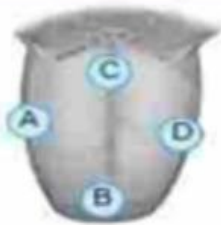
5. Perhatikan pernyataan di bawah ini!

- 1) Tergantung warna
- 2) Terletak pada bau makanan
- 3) Berdasarkan tekstur makanan
- 4) Terletak pada komposisi kimia makanan

Dari beberapa pernyataan di atas mengenai rasa makanan yang biasanya diidentifikasi oleh lidah sebagai indera pengecap ditunjukkan pada nomor

- a. 1
- b. 2
- c. 3
- d. 4

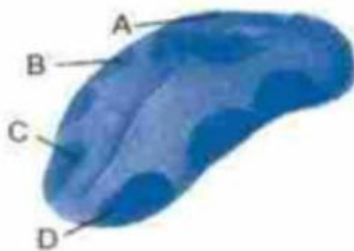
6. Perhatikan gambar di bawah ini!



Dari gambar lidah tersebut, bagian lidah yang berfungsi untuk mengecap rasa pahit ditunjukkan pada bagian

- a. A
- b. B
- c. C
- d. D

7. Perhatikan gambar di bawah ini!



Dari gambar lidah tersebut, bagian lidah yang peka terhadap rasa asam pada gambar di bawah ini terdapat di bagian....


- a. A
- b. B
- c. C
- d. D

8. Perhatikan 4 bagian lidah berdasarkan lokasinya di bawah ini!

- 1) Root
- 2) Body
- 3) Apex
- 4) Dorsum

Dari empat bagian lidah berdasarkan lokasinya, bagian yang berada pada bagian pangkal mulut dan dekat tenggorokan, umumnya tidak bisa digerakan ditunjukkan pada nomor

- a. 1
- b. 2
- c. 3
- d. 4

- 
9. Dani sering mengonsumsi makanan dan minuman yang terlalu panas secara langsung. Akibatnya Dani merasa di dalam mulutnya ada rasa tidak enak pada saat makan atau minum sesuatu yang tidak biasanya. Kejadian yang dialami Dani ini salah satu gangguan pada alat indera, jadi Dani perlu menghilangkan kebiasaan langsung mengonsumsi makanan dan minuman yang terlalu panas karena
- a. Agar warna gigi tetap putih
 - b. Mencegah terjadinya gangguan pada lidah
 - c. Menjaga kesehatan mulut
 - d. Mencegah sakit gigi
10. Calia mengalami kondisi bisa merasakan sama sekali atau hilangnya daya pengecap karena beberapa waktu yang lalu Calia mengonsumsi obat dan ternyata obat yang dikonsumsi Calia ada efek sampingnya. Keadaan yang dialami Calia adalah gangguan
- a. Glositis
 - b. Lekoplakia
 - c. Anosmia
 - d. Ageusia



SELAMAT MENGERJAKAN!!