






KUIS Algoritma Pemrograman

Nama :	
Kelas :	

1. Algoritma sama dengankecuali
 - a. Langkah-langkah
 - b. Sistem
 - c. Resep
 - d. Strategi
 - e. Metode
2. Simbol diagram alir untuk menunjukkan arah aliran program disimbolkan dengan...
 - a. 
 - b. 
 - c. 
 - d. 
 - e. 

3. Lengkapilah diagram alir menghitung luas persegi panjang berikut ini

Diagram Alir Menghitung Luas Persegi Panjang

Mulai	Selesai
Masukkan Panjang dan lebar	
Tampilkan luas	
Hitung Luas= $p \times l$	
Masukkan Luas	

