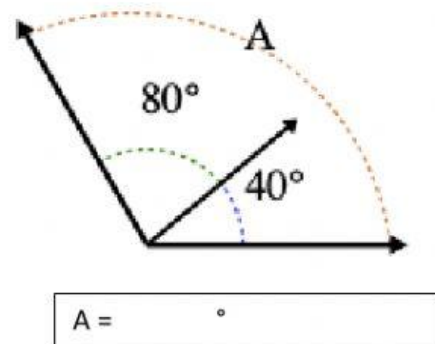
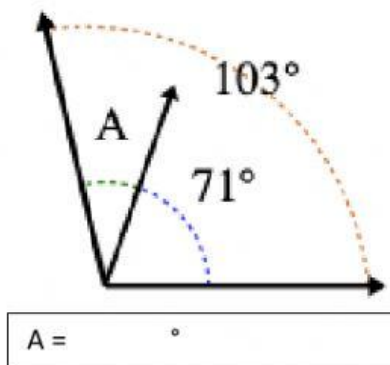
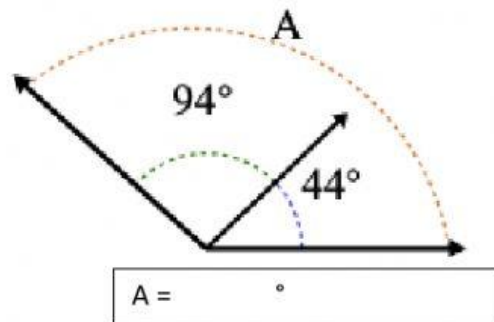
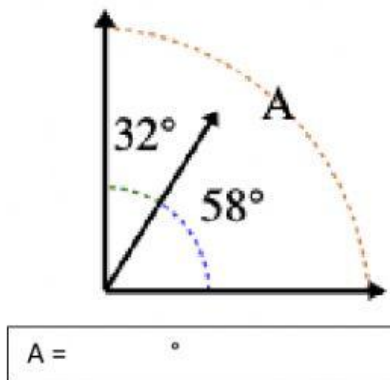


Winkel

1. Berechne, wie viel Grad A hat.



2. Schreibe auf, welche Winkelart hier dargestellt ist.

<p>a.</p>	<p>b.</p>	<p>c.</p>	<p>d.</p>
<p>e.</p>	<p>f.</p>		

3. Schreibe auf, wie diese Buchstaben genannt werden.

δ	ε	γ	α	β