



**PEMERINTAH KABUPATEN SINJAI
DINAS PENDIDIKAN
GUGUS 16 KEC. SINJAI TENGAH
KECAMATAN SINJAI TENGAH
PENILAIAN TENGAH SEMESTER 2 TP. 2022/2023**



Alamat Jl. Poros Sinjai-Malino Kecamatan Sinjai Tengah Kab. Sinjai Kode Pos 92652

Nama : _____ Kelas : VI (Enam)
Tema : 6 (Menuju Masyarakat Sejahtera) Hari/Tanggal : _____

I. Jawablah pertanyaan di bawah ini dengan tepat !

PPKn (PG, PGK, MJD, dan Isian)

- Kegiatan berikut yang merupakan cara siswa dalam mengisi kemerdekaan Indonesia adalah
 - Belajar dengan giat
 - Bermain saat belajar
 - Terlambat datang ke sekolah
 - Mengerjakan pekerjaan rumah (PR) di kelas
- Berilah tanda centang (✓) pada kolom BENAR/SALAH sesuai pernyataan berikut yang sesuai tentang “ Bentuk kewajiban yang harus dilakukan dalam lingkungan masyarakat”!

| NO | PERNYATAAN | BENAR | SALAH |
|----|--|-------|-------|
| 1 | Mengikuti kegiatan ronda malam | | |
| 2 | Mengerjakan tugas PR tepat waktu | | |
| 3 | Bergotong-royong membersihkan lingkungan | | |

- Jodohkan beberapa pernyataan berikut yang sesuai dengan menarik garis dari ruas kiri ke kanan dengan tepat !

| NO | Bentuk Kegiatan | Pelaksanaan Tanggung Jawab |
|----|--|-----------------------------|
| 1 | Senantiasa menjaga kebersihan kelas | a. Di rumah |
| 2 | Ikut serta dalam kegiatan gotong-royong di balai desa | b. Di sekolah |
| 3 | Mengerjakan pekerjaan yang diperintahkan orang tua sesuai jadwal | c. Di lingkungan Masyarakat |

- Perhatikan gambar berikut!



Berdasarkan gambar tersebut, salah satu hak anak di sekolah adalah mendapatkan

5. Perhatikan daftar buku berikut!

- Cerpen
- Novel
- Komik
- Biografi
- Pidato
- Mitos
- Buku pelajaran

Kelompok buku-buku tersebut yang termasuk kategori nonfiksi adalah...

- A. cerpen, novel, dan komik
- B. novel, biografi dan mitos
- C. biografi, pidato, dan buku pelajaran
- D. pidato, mitos, buku pelajaran

6. Bacalah teks berikut!

Perlawanan Rakyat Maluku terhadap Portugis

Bangsa Portugis pertama kali mendarat di Maluku pada tahun 1511. Kedatangan Portugis berikutnya pada tahun 1513. Akan tetapi, Ternate merasa dirugikan oleh Portugis karena keserakahannya dalam memperoleh keuntungan melalui usaha monopoli perdagangan rempah-rempah. Pada tahun 1533, Sultan Ternate menyerukan kepada seluruh rakyat Maluku untuk mengusir Portugis di Maluku. Pada tahun 1570, rakyat Ternate yang dipimpin oleh Sultan Hairun dapat kembali melakukan perlawanan terhadap bangsa Portugis, namun dapat diperdaya oleh Portugis hingga akhirnya tewas terbunuh di dalam Benteng Duurstede. Selanjutnya dipimpin oleh Sultan Baabullah pada tahun 1574. Portugis diusir yang kemudian bermukim di Pulau Timor.

Sumber: <https://www.dosenpendidikan.co.id/perlawanan-rakyat-maluku/>

Berilah tanda centang (✓) pada kolom BENAR/SALAH sesuai pernyataan berikut berdasarkan teks “Perlawanan Rakyat Maluku terhadap Portugis.”







| NO | PERNYATAAN | BENAR | SALAH |
|----|---|-------|-------|
| 1 | Bangsa Portugis pertama kali mendarat di Maluku pada tahun 1551 | | |
| 2 | Portugis diusir yang kemudian bermukim di Pulau Timor | | |
| 3 | Portugis datang ke dua kalinya pada tahun 1513 | | |

7. Bacalah teks berikut!

Tanggung jawab merupakan kesadaran manusia akan tingkah laku atau perbuatan baik yang disengaja maupun yang tidak disengaja. Tanggung jawab warga negara terhadap bangsa dan negaranya dilaksanakan dengan cara memenuhi hak dan kewajibannya sebagai warga negara seperti yang tercantum dalam landasan konstitusional negara Indonesia, yakni Undang-Undang Dasar 1945. Berbagai bentuk sikap dan perilaku dapat diwujudkan sebagai cermin dari tanggung jawab warga negara Indonesia dalam kehidupan sehari-hari. Salah satunya adalah memahami dan mengamalkan Pancasila dalam berbagai bidang kehidupan, baik politik, ekonomi, sosial maupun budaya. (sumber: Buku Tema 6 hal. 85 Kementerian Pendidikan dan Kebudayaan)

Berdasarkan bacaan teks nonfiksi tersebut, pasanglanlah beberapa pernyataan berikut yang sesuai dengan menarik garis dari ruas kiri ke kanan dengan tepat !

Pasangkanlah pernyataan berikut yang sesuai dengan menarik garis dari ruas kiri ke kanan berdasarkan paragraf di atas!

| | | | | |
|---|--|--|---|------------------|
| 1 | Tanggung jawab merupakan kesadaran manusia akan tingkah laku atau perbuatan baik yang disengaja maupun yang tidak disengaja. |  |  | a. Judul |
| 2 | Tanggung jawab warga negara terhadap bangsa dan negaranya. |  |  | b. Gagasan utama |
| 3 | Tanggung Jawab Warga Negara |  |  | c. Kaimat utama |

8. Bacalah teks berikut dengan cermat!

Semangat kemerdekaan tersebut dapat menjadi pendorong bagi generasi muda Indonesia untuk mengisi kemerdekaan ini dengan karya nyata yang bermanfaat bagi masyarakat. Sikap tersebut dapat dilakukan dengan fokus pada pendidikan dan memperkuat karakter sebagai anak bangsa. Dengan begitu, generasi muda Indonesia diharapkan mampu menyambung estafet pembangunan bangsa Indonesia di masa depan.

Tuliskan informasi penting dari paragraf di atas!

Jawab:

IPS (PG, MJ, ISIAN, dan URAIAN)

9. Proklamasi berasal dari kata “proclamatio” (dari bahasa Yunani). Pernyataan di bawah ini yang merupakan arti dari “proclamatio” yang benar adalah

- A. Pengumuman resmi kepada seluruh rakyat
- B. Pengumuman resmi kepada seluruh negara
- C. Undang-undang dasar kepada seluruh hrakyat
- D. Undang-undang dasar kepada seluruh negara

10. Jodohkan beberapa pernyataan berikut berdasarkan gambar “Kegiatan di Sekolah”

| | | | | |
|---|--|---|---|--|
| 1 | <u>Mengikuti pembelajaran di kelas dengan tertib</u> |  |  | a.  |
| 2 | <u>Gotong royong dalam menjaga kebersihan kelas</u> |  |  | b.  |
| 3 | <u>Disiplin dalam mengikuti upacara bendera</u> |  |  | c.  |
| 4 | <u>Melakukan penghijauan di lingkungan sekolah</u> |  |  | d.  |

11. Menjaga keutuhan Negara Kesatuan Republik Indonesia merupakan upaya untuk

12. Perjuangan para pahlawan dalam mempertahankan kemerdekaan Indonesia patut kita hargai.

Tuliskan 3 contoh kegiatan menghargai jasa para pahlawan kemerdekaan!

Jawab:

SBdP (PGK, MJD, ISIAN, dan Uraian)

13. Perhatikan interval nada berikut!

| INTERVAL NADA | JARAK NADA | NAMA INTERVAL |
|---------------|------------|---------------|
| c - c | 0 | Prime |
| c - d | 1 | Skond |
| c - e | 2 | Terts |
| c - f | 2 ½ | Kward |
| c - g | 3 ½ | Kwin |
| c - a | 4 ½ | Sekst |
| c - b | 5 ½ | Septime |
| c - c' | 6 | Oktaf |

Berdasarkan gambar tersebut, berilah tanda centang (✓) pada kolom BENAR/SALAH pada pernyataan berikut!

| NO | PERNYATAAN | BENAR | SALAH |
|----|--|-------|-------|
| 1 | c ke d adalah langkah ke 2 dalam interval nada yang disebut <i>skond</i> | | |
| 2 | Langkah ke 4 dalam interval nada disebut <i>kward</i> | | |
| 3 | <i>Kwin</i> merupakan langkah ke 7 dalam interval nada | | |

14. Pasangkanlah beberapa pernyataan berikut yang sesuai dengan menarik garis dari ruas kiri ke kanan dengan tepat !

karya tari yang diperagakan oleh seorang penari



(A)

Tari Berpasangan

karya tari yang diperagakan oleh dua orang penari



(B)

Tari kelompok

karya tari yang diperagakan oleh lebih dari dua orang



(C)

Tari Tunggal

15. Piring merupakan properti yang digunakan dalam tari

16. Tuliskan pengertian dari interval nada !

Jawab:

17. Perhatikan gambar di bawah ini !



Perubahan psikis, fisik, sekaligus pematangan fungsi reproduksi terjadi pada masa

- A. balita
- B. dewasa
- C. pubertas
- D. lanjut usia

18. Berilah tanda centang (✓) pada kolom BENAR/SALAH sesuai pernyataan berikut yang sesuai tentang “ciri-ciri pubertas pada remaja perempuan”!

| NO | PERNYATAAN | BENAR | SALAH |
|----|-----------------------------|-------|-------|
| 1 | Suara terdengar lebih berat | | |
| 2 | Panggul menjadi lebih besar | | |
| 3 | Mengalami menstruasi/haid | | |

19. Masa ketika seorang anak mengalami perubahan fisik, psikis, dan pematangan fungsi seksual disebut

20. Tuliskan cara menjaga kesehatan pada masa pubertas!

Jawab:

*** SELAMAT BEKERJA ***