



Thời gian: 35 phút

Điểm:

Họ và tên:

Nhận xét:

Lớp:

.....

A. Môn Toán

Phần I: Trắc nghiệm

Khoanh vào chữ cái đặt trước câu trả lời đúng:

Bài 1.

a) Trong các số: 2, 4, 7, 1 số bé nhất là:

A. 7

B. 2

C. 1

D. 4

b) Dãy số được sắp xếp từ bé đến lớn là:

A. 2, 1, 5, 9

B. 1, 2, 5, 9

C. 5, 1, 2, 9

D. 5, 9, 2, 1

Bài 2.

a) Số 9 bé hơn số nào?

A. 7

B. 9

C. 8

D. 10

b) Số 3 lớn hơn số nào?

A. 0

B. 3

C. 6

D. 8

Bài 3. Kết quả phép tính:

a) $3 + 4 = ?$

A. 3

B. 4

C. 2

D. 7

b) $10 - 3 = ?$

A. 3

B. 2

C. 7

D. 6

Bài 4. Điền dấu thích hợp (>, <, =)

a) $6 \dots 8$

A. >

B. <

C. =

b) $10 - 6 \dots 3$

Biên soạn bởi: Khối Tiểu học

A. >

B. <

C. =

Bài 5. Điền dấu +, -, = vào ô trống

a) $3 \square 6 = 9$

A. +

B. -

C. =

b) $10 - 3 \square 7 = 0$

A. +

B. -

C. =

Bài 6. Điền số vào ô trống

a) $10 - \square = 5$

A. 1

B. 5

C. 3

D. 4

b) $5 + 3 = \square + 2$

A. 9

B. 5

C. 6

D. 4

c) $5 + 3 = \square + 5$

A. 8

B. 5

C. 3

D. 6

Bài 6. Hình sau được xếp bởi bao nhiêu khối lập phương nhỏ



A. 2

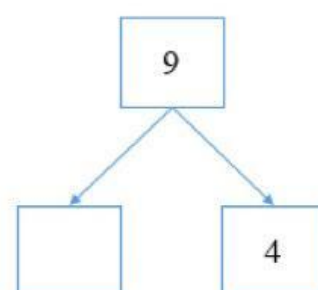
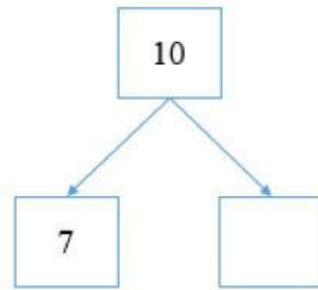
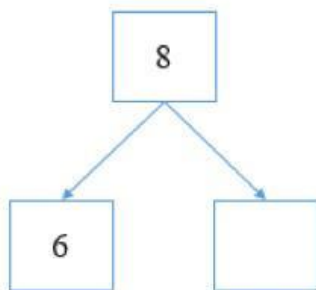
B. 4

C. 6

D. 8

Phần II: Tự luận

Bài 8. Điền số vào ô trống



Bài 9. Điền số thích hợp để được phép tính đúng:

$\square + \square = 9$

$\square - \square = 4$

Biên soạn bởi: Khối Tiểu học

