


**KKG GUGUS PAKU-PAWE**



# **TRYOUT SISWA BERPRESTASI**



## TRYOUT SISWA BERPRESTASI

1. Simbol sila Pancasila yang mengandung makna bahwa rakyat Indonesia merupakan pemegang kedaulatan tertinggi dalam negara, yang menjadi pedoman dalam penyelenggaraan setiap keputusan pemerintahan adalah ....
  - A. bintang
  - B. rantai
  - C. pohon beringin
  - D. kepala banteng
  
2. Bangsa Indonesia adalah bangsa yang beragam, bahkan setiap individu memiliki karakteristik yang berbeda-beda. Sikap yang perlu dikembangkan terhadap perbedaan karakteristik dalam pergaulan sehari-hari adalah ....
  - A. berkumpul dengan orang-orang yang memiliki latar belakang yang sama agar mudah berkomunikasi
  - B. perbedaan karakteristik merupakan hal yang wajar dan harus tetap kita hormati demi terciptanya kerukunan
  - C. apapun perbedaan yang ada diantara kita itu hanya untuk mengkotak-kotakkan dalam pergaulan
  - D. menganggap perbedaan menjadi penghalang dalam membina persatuan dan kesatuan
  
3. Setiap warga negara berhak dan wajib ikut serta dalam usaha pertahanan dan keamanan negara yang telah diatur dalam pasal ....
  - A. 29 ayat 2
  - B. 30 ayat 1
  - C. 30 ayat 2
  - D. 31 ayat 1
  
4. Suatu keadaan dalam masyarakat yang terdapat banyak perbedaan dalam berbagai bidang disebut ....
  - A. keragaman
  - B. keselarasan
  - C. kekayaan
  - D. kesatuan



### Mengenal Keberagaman Sosial Budaya di Indonesia serta Contohnya

Masyarakat Indonesia terdiri atas berbagai macam bentuk keberagaman, seperti keberagaman kewilayahan, ras, golongan, jenis kelamin, agama, adat istiadat, hingga budaya. Keberagaman yang menjadi bagian dari kehidupan ini harus dijaga demi persatuan dan kesatuan bangsa. Menurut laman Sumber Belajar Kemdikbud, setiap negara memiliki keberagamannya masing-masing. Untuk di Indonesia, keberagaman terbagi dalam dua jenis: Pertama, keberagaman wilayah dan lingkungan. Kedua, keberagaman suku bangsa dan budaya.

Keberagaman wilayah dan lingkungan adalah keberagaman yang dilihat dari berbagai sisi pada wilayah. Misalnya dari Sabang sampai Merauke, Indonesia memiliki berbagai ciri wilayah yang berbeda-beda seperti kekayaan alam, kondisi lingkungan, flora fauna, dan sebagainya. Sementara itu, keberagaman suku bangsa dan budaya adalah perbedaan yang ditinjau dari sisi kelompok etnik dengan budaya yang dimilikinya. Indonesia sangat kaya dengan suku bangsa yang tersebar di berbagai penjuru. Setiap suku memiliki ciri khasnya masing-masing seperti adat, budaya, kepercayaan, bahasa, dan sebagainya.

Berdasarkan teks yang berjudul “Mengenal Keberagaman Sosial Budaya di Indonesia serta Contohnya” di atas yang termasuk keberagaman suku bangsa dan budaya adalah ....

- A. bahasa, kondisi lingkungan dan suku bangsa
  - B. flora dan fauna, kepercayaan, dan adat
  - C. kepercayaan, bahasa, dan adat-istiadat
  - D. kekayaan alam, adat dan bahasa
6. Salah satu budaya Indonesia yang menjadi daya tarik wisatawan adalah tarian adatnya yang lincah, indah, dan menarik. Namun belakangan ini banyak generasi muda kurang berminat untuk mempelajarinya sehingga perlu usaha untuk melestarikan tarian adat tersebut dengan cara ....
- A. mengubah tarian adat menjadi tarian modern sehingga lebih menarik
  - B. menggabungkan beberapa tarian tradisional dari daerah yang berbeda
  - C. mengirim penari daerah ke luar negeri untuk mempelajari tarian negara lain
  - D. menghidupkan kembali kelompok-kelompok tari tradisional melalui kegiatan pagelaran budaya daerah
7. Keluarga pak Made hidup bertetangga dengan keluarga pak Darta. Beberapa bulan lalu keluarga pak Made terpapar virus corona. Berdasarkan kebijakan pemerintah saat itu, keluarga pak Made harus melaksanakan isolasi mandiri selama 14 hari. Mengetahui hal tersebut keluarga pak Darta memberikan bantuan berupa sembako dan kebutuhan lain yang diperlukan keluarga pak Made selama menjalani isolasi.



Berdasarkan ilustrasi di tersebut tindakan keluarga pak Darta sesuai dengan nilai Pancasila terutama sila ....

- A. Ketuhanan Yang Maha Esa
- B. Kemanusiaan yang adil dan beradab
- C. Persatuan Indonesia
- D. Keadilan sosial bagi seluruh rakyat Indonesia


8. Perhatikan tabel berikut!

No	Nama Provinsi	Lagu Daerah
1	Kalimantan Selatan	Suwe Ora Jamu
2	Sumatera Selatan	Sayang Selayak
3	Jawa Barat	Borero
4	Maluku	Sajojo

Pasangan yang tepat antara nama provinsi dengan lagu daerahnya ditunjukkan oleh nomor ....

- A. (1)
- B. (3)
- C. (4)
- D. (2)

9. Aktivitas pada gambar berikut yang mencerminkan pelaksanaan tanggung jawab sebagai warga masyarakat adalah ....



10. Musyawarah mufakat merupakan cara pengambilan keputusan yang menyangkut kepentingan bersama. Bentuk tanggung jawab terhadap keputusan musyawarah adalah ....

- A. menerima dan melaksanakan keputusan musyawarah yang disertai dengan sanksi
- B. menerima dan melaksanakan keputusan yang memberikan keuntungan

- C. menerima keputusan yang sesuai dengan keinginan pribadi
- D. menerima dan melaksanakan dengan sepenuh hati

11. Perhatikan pernyataan-pernyataan berikut!

- (1) menghargai
- (2) menyayangi
- (3) menghormati
- (4) mencela teman

Cara mempertahankan persatuan dan kesatuan NKRI ditunjukkan oleh nomor ....

- A. (1), (2), dan (3)
- B. (2), (3), dan (4)
- C. (1), (2), dan (4)
- D. (1), (3), dan (4)

12. Perhatikan pernyataan berikut!

- (1) sistem religi
- (2) sistem pendidikan nasional
- (3) sistem peralatan hidup dan teknologi
- (4) sistem kemasyarakatan atau organisasi sosial

Pernyataan yang merupakan unsur-unsur budaya ditunjukkan oleh nomor ....


- A. (1) dan (2)
- B. (1) dan (3)
- C. (2) dan (3)
- D. (3) dan (4)

13. Persatuan dan kesatuan merupakan modal dasar dalam mengisi kemerdekaan menuju Indonesia yang maju dan sejahtera, karena persatuan dan kesatuan memiliki makna penting seperti ....

- A. menjalin rasa persahabatan, kekeluargaan, gotong royong dan toleransi
- B. menggabungkan keberagaman untuk menciptakan rasa persatuan
- C. menghapuskan berbagai bentuk keberagaman menjadi satu
- D. tumbuhnya dorongan memajukan daerah sendiri

Bacalah teks berikut untuk menjawab soal no 14!

Suatu negara yang bersatu menjadi faktor utama dalam keberhasilan pembangunan yang dijalankan. Sama halnya dengan Negara Indonesia yang sedang dalam proses pembangunan di segala bidang, hal ini tentunya memerlukan persatuan dan kesatuan dari rakyat Indonesia. Suatu program pembangunan akan terlaksana dengan baik jika kondisi dari suatu negara tidak terpecah belah dan tidak ada konflik diantara warga negaranya itu sendiri. Maka dari itu, persatuan dan kesatuan bangsa Indonesia mempunyai peran yang penting untuk menentukan keberhasilan pembangunan yang sedang dijalankan.





14. Faktor utama keberhasilan program pembangunan suatu negara akan terlaksana dengan baik berdasarkan teks adalah ....
- pendapatan devisa negara yang meningkat
  - kemampuan yang dimiliki sumber daya manusia
  - sumber daya alam yang melimpah di negara tersebut
  - kondisi dari suatu negara tidak terpecah belah dan tidak ada konflik
15. Nilai persatuan harus kita terapkan di lingkungan rumah, sekolah dan masyarakat. Berikut ini manfaat diterapkannya nilai persatuan di rumah yaitu ....
- piket kelas akan terlaksana dengan cepat dan bersih
  - hidup aman, nyaman dan tentram di sekolah
  - hidup menjadi harmonis dengan keluarga
  - terciptanya kerukunan antar tetangga
16. Dampak yang terjadi jika anggota masyarakat terpenuhi haknya dengan baik adalah ....
- terciptanya kehidupan yang rukun dan harmonis
  - banyak investor yang datang menanamkan modalnya
  - tidak terjadi demo di jalanan yang membuat kemacetan
  - masyarakat turut dan tunduk terhadap semua keputusan pemerintahan
17. Nilai-nilai Pancasila pada dasarnya sudah melekat pada diri masyarakat Indonesia. Hal ini tercermin dalam ....
- kebiasaan masyarakat menyelenggarakan upacara adat untuk kepentingan acara
  - beragam usaha manusia untuk memenuhi kebutuhan sehari-hari
  - kebiasaan hidup masyarakat melaksanakan gotong royong
  - berbagai macam benda kuno peninggalan sejarah
18. Perhatikan pernyataan berikut!
- ikut melaksanakan piket kelas
  - membersihkan halaman rumah
  - gotong royong membangun pos kamling
  - kerja bakti membersihkan lingkungan sekitar
- Pernyataan yang menunjukkan nilai persatuan di lingkungan masyarakat ditunjukkan oleh nomor ....
- (1) dan (2)
  - (2) dan (4)
  - (2) dan (3)
  - (3) dan (4)





Bacalah teks berikut untuk menjawab soal no. 19!

Arti penting persatuan dan kesatuan bagi bangsa Indonesia tentu harus dipahami setiap warga negara. Persatuan dan kesatuan sangatlah penting dimiliki setiap negara terlebih Indonesia yang beragam, sehingga bangsa tersebut tidak mudah terombang-ambing dan terpecah belah. Persatuan dan kesatuan berasal dari kata “satu” yang berarti utuh atau tidak terpecah-belah. Hal ini tidak terlepas dari perjuangan kemerdekaan bangsa Indonesia dan menggambarkan keutuhan berbangsa dan bernegara. Arti penting persatuan dan kesatuan bagi bangsa Indonesia tak lepas dari prinsip-prinsip negara. Memahami arti penting persatuan dan kesatuan bagi bangsa Indonesia, membuat negara dapat terhindar dari konflik dan perpecahan.

19. Arti penting persatuan dan kesatuan bagi bangsa Indonesia terdapat dalam kalimat ....
  - A. Persatuan dan kesatuan sangatlah penting dimiliki setiap negara terlebih Indonesia yang beragam, sehingga Indonesia tidak mudah terombang-ambing dan terpecah belah.
  - B. Hal ini tidak terlepas dari perjuangan kemerdekaan bangsa Indonesia dan menggambarkan keutuhan berbangsa dan bernegara.
  - C. Persatuan dan kesatuan berasal dari kata “satu” yang berarti utuh atau tidak terpecah-belah.
  - D. Arti penting persatuan dan kesatuan bagi bangsa Indonesia tak lepas dari prinsip-prinsip negara.
  
20. Sebagai warga negara yang baik, haruslah menjalankan kewajiban dengan penuh rasa tanggung jawab. Pernyataan berikut yang menunjukkan sikap warga negara yang baik dalam berkehidupan berbangsa dan bernegara yang benar adalah ....
  - A. mengembangkan bakat dan kemampuan
  - B. mendapatkan pendidikan dan pekerjaan
  - C. menaati hukum dan pemerintahan
  - D. meningkatkan kualitas hidup
  
21. Secara ekologis terumbu karang memiliki peranan sangat penting dalam menjaga keseimbangan lingkungan. Terumbu karang dapat berfungsi sebagai rumah bagi banyak jenis makhluk hidup di dalam laut. Terumbu karang menjadi tempat bagi hewan dan tanaman laut yang berkumpul untuk mencari makan, berkebang biak, membesarkan anaknya, dan berlindung. Bagi manusia terumbu karang mempunyai potensi perikanan sangat besar, baik untuk sumber bahan makanan maupun mata pencaharian mereka.
 

Gagasan utama paragraf tersebut adalah . . .

  - a. Terumbu Karang berfungsi sebagai rumah bagi banyak jenis makhluk hidup di dalam laut
  - b. Terumbu karang mempunyai potensi perikanan sangat besar untuk sumber bahan makanan



- c. Terumbu karang memiliki peranan sangat penting dalam menjaga keseimbangan lingkungan
  - d. Terumbu karang menjadi tempat bagi hewan dan tanaman laut yang berkumpul untuk mencari makan
22. Apakah kamu tahu? Sayuran hijau memiliki beragam manfaat bagi kesehatan. Kandungan zat gizinya seperti vitamin, zat besi, dan serat sangat diperlukan tubuh kita. Vitamin bermanfaat untuk menjaga daya tahan tubuh agar tetap sehat. Zat besi bermanfaat membantu proses pembentukan sel darah merah. Sementara itu, serat sayuran berguna untuk melancarkan pencernaan. Zat-zat gizi tersebut di antaranya terdapat pada bayam, kangkung, brokoli, dan daun singkong.
- Pernyataan yang sesuai paragraf di atas adalah ...
- a. Sayuran hijau perlu dimasak dengan benar sebelum dikonsumsi
  - b. Penderita anemia disebabkan jarang mengonsumsi sayuran hijau
  - c. Sayuran hijau mengandung semua zat gizi yang diperlukan tubuh
  - d. Kandungan gizi pada sayuran hijau, seperti serat, vitamin, dan zat besi
23. Bertanam hidroponik dapat dilakukan dengan media apa saja, selain itu sistem hidroponik tidak memerlukan air terlalu banyak. Penggunaan pupuk juga tidak mencemari tanah dan lingkungan sekitar. Hasil dari bertanam hidroponik tidak kalah dengan penanaman langsung di tanah. Meskipun begitu biaya awal untuk membuat sistem hidroponik memang agak mahal, tapi ini bisa diakali dengan menggunakan bahan-bahan bekas disekeliling. Itulah manfaat dan kekurangan sistem bertanam hidroponik.
- a. Deduktif
  - b. Induktif
  - c. Persuasi
  - d. Campuran
24. "Mencoba bertahan sekuat hati layaknya karang yang diempas sang ombak."  
Kalimat yang merupakan penggalan lirik lagu milik Ada Band di atas mengandung majas ...
- a. Personifikasi
  - b. Hiperbola
  - c. Metafora
  - d. Simile
25. Anto tinggal bersama tantenya sejak kelas 4 SD. Anto rajin membantu pekerjaan rumah. Setiap pagi dia menyapu halaman. Sore hari menyiram tanaman. Suatu hari Anto tidak sengaja memecahkan vas bunga kesayangan tantenya. Anto langsung kena marah karena dianggap tidak berhati-hati. Kebaikan Anto hilang bagai ....  
Peribahasa yang tepat untuk melengkapi paragraf tersebut adalah ....
- a. ada hujan ada panas, ada hari boleh balas





- b. panas setahun dihapuskan hujan sehari
- c. bumi mana yang tak kena hujan
- d. sedia payung sebelum hujan

26. Bowo tergesa-gesa berangkat ke sekolah. Ia belum sempat sarapan. Bowo terlambat sampai di sekolah. Pak guru memulai pelajaran dengan menanyakan PR. Bowo terkejut karena lupa mengerjakan PR. Akhirnya ia diminta mengerjakan PR di luar kelas. Bowo seperti ....

Peribahasa yang tepat untuk melengkapi paragraf tersebut adalah ....

- a. sudah banyak makan garam
- b. sudah jatuh tertimpa tangga
- c. sudah diludah dijilat lagi
- d. sudah menjadi abu arang

27. Fitria bertanya, "Apakah Azka ada di kamar?"

Apabila kalimat langsung di atas diubah menjadi kalimat tidak langsung, maka bunyinya adalah...

- a. Fitria menanyakan, kalau Azka ada di kamar
- b. Fitria bertanya apabila Azka ada di kamar
- c. Fitria menanyakan apakah Azka ada di kamar
- d. Fitria bertanya bahwa Azka ada di kamar

28. Rudi adalah seorang anak yang memiliki tabiat buruk di sekolah. Setiap jam istirahat ia pergi ke kantin untuk jajan Bersama dengan teman – temannya. Namun tak banyak yang mengetahui bahwa dirinya seringkali mengambil makanan tanpa membayar. Ia seringkali melakukan aksinya tersebut tanpa ketahuan. Hingga pada suatu Ketika, penjaga kantin memergoki dirinya sedang mengambil gorengan secara diam – diam.

Peribahasa yang sesuai menggambarkan peristiwa tersebut adalah ...

- a. Setinggi – tingginya beruaang terbang akhirnya ia akan jatuh juga
- b. Sepandai – pandainya tupai melompat ia akan terjatuh juga
- c. Tidak ada gading yang tak retak
- d. Bagai makan buah simalakama

29. Berikut adalah ciri-ciri teks prosedur, kecuali...

- a. Menggunakan kalimat perintah
- b. Menggunakan kata kerja aktif
- c. Merisi langkah-langkah yang urut
- d. Menggunakan kata kerja pasif



30. Raja Ampatku  
oleh : B.E. Priyanti

Dari atas mata memandang  
Gugusan pulaumu berdaratan  
Laksana untaian mutiara di lautan  
Sungguh indah dan menawan  
Dari bawah mata menyelam  
Airmu beriak tenang membahagiakan  
Lambaian terumbu karang dan ikan  
Menyapa hangat kehadiran para penyelam

Tema yang tepat untuk puisi di atas adalah...

- a. Keindahan
  - b. kebahagiaan
  - c. Kesedihan
  - d. Kehadiran
31. . Sebutan lain dari 'sabana' adalah..
- a. Gurun
  - b. Padang pasir
  - c. Padang rumput
  - d. pasir berisik

32. Tanah airku Indonesia  
Negeri elok amat kucinta  
Tanah tumpah darahku yang mulia  
Yang kupuja sepanjang masa

Kesamaan dari setiap baris pada lirik lagu tersebut terletak pada...

- a. sajak
  - b. Rima
  - c. Majas
  - d. Suku kata
33. Hai apa kabar semoga keadaanmu baik-baik saja.

Tanda baca yang tepat untuk melengkapi kalimat surat tersebut adalah ...

- a. Koma ( , ), Tanya ( ? ), titik ( . )
- b. Koma ( , ), Tanya ( ? ), seru ( ! )
- c. Tanya ( ? ), dan seru ( ! )
- d. Tanya ( ? ), dan titik ( . )





34. Urutan unsur buku novel yang paling benar adalah ....

- a. Sampul buku - daftar isi - kata pengantar - isi buku - glosarium - tentang penulis
- b. Sampul buku - daftar isi - isi buku - tentang penulis - kata pengantar - glosarium
- c. Sampul buku - kata pengantar - daftar isi - isi buku - glosarium - tentang penulis
- d. Sampul buku - kata pengantar - daftar isi - tentang penulis - isi buku - glosarium

35. Sungai Cawan, salah satu sungai yang ada di Kota Banyuwangi, telah mengalami pendangkalan. Salah satu penyebabnya adalah limbah rumah tangga yang dibuang ke dalam sungai sehingga terjadi penumpukan dan menghambat aliran sungai. Pemerintah setempat bersama masyarakat kemudian bergotong-royong membersihkan aliran Sungai Cawan dari sampah-sampah yang menumpuk.

Peristiwa yang mungkin terjadi jika musim hujan tiba, sedangkan aliran sungai belum dibersihkan yaitu ... .

- a. Aliran sungai akan terhambat dan meluap sehingga menggenangi lingkungan warga sekitar
- b. Air sungai akan tetap mengalir dengan lancar
- c. Aliran sungai mengalami penghambatan
- d. Volume air sungai bertambah

36. Bacalah paragraf berikut!

Pantai Nusa Penida memiliki keindahan alam yang menarik, khususnya bagi wisatawan yang mendambakan suasana nyaman, tenang, dan jauh dari kebisingan kota. Pohon-pohon di sana sangat rimbun dan rindang. Bentangan lautnya pun luas. Pantai Nusa Penida juga menawarkan keindahan bawah laut bagi para penyelam.

Jenis paragraf tersebut adalah ... .

- a. Narasi
- b. Deskripsi
- c. Persuasi
- d. Eksposisi

37. Perhatikan kalimat berikut ini!

- 1) Ayah bangga kepada Adit, karena ia menjadi bintang kelas.
  - 2) Pak Wiguna berserta warga desa berusaha memadamkan si jago merah.
  - 3) Ekor kucing itu menari-nari setelah diberikan makanan oleh Dina.
  - 4) Kejutan ulang tahun dari temanku hampir membuatku terkena serangan jantung.
- a. Satu
  - b. Dua
  - c. Tiga
  - d. Empat

38. Perhatikan surat berikut ini !

Surabaya, 9 Agustus 2020  
Untuk: Jefri Mamantouw  
Jalan Walanda Maramis 123A  
Manado

Hai, Jefri, apa kabar?

Kenalkan, namaku Doni. Aku tinggal di Surabaya. Aku seumuran denganmu. Aku membaca cerita tentang kamu di surat kabar. Aku sangat mengagumi mainan kardus buatanmu. Ternyata kita sama, kesulitan berbicara dan tidak punya banyak teman. Sayangnya, aku tidak seperti kamu. Aku pemalu. Setelah membaca kisahmu, aku ingin menjadi seperti kamu. Kamu hebat sekali, tetap semangat, meskipun banyak yang menyepelekanmu sebelumnya.

Bisakah engkau mengajarkanku cara membuat mainan dari kardus? Aku ingin membuat model gajah dan jerapah. Kuharap kamu mau menjadi temanku. Aku tunggu balasan darimu, ya!

Salam,  
Teman barumu  
Doni Waluyo

Isi dari surat tersebut menunjukkan tentang ....

- a. Doni dan Jefri bertemanan baik
- b. Doni ingin bertemu Jefri
- c. Doni merupakan penggemar Jefri
- d. Doni tertarik untuk belajar membuat mainan dari kardus seperti karya Jefri

39. Tiara merupakan siswi kelas 6 di SD Tambong. Setiap ulangan semester, ia selalu mendapatkan nilai yang baik di semua mata pelajaran. Bahkan, nilainya paling tinggi di antara teman-temannya. Meskipun begitu, ia tetap belajar dengan tekun, selalu membahas ulang pelajaran yang ada di sekolah, dan membuat kelompok belajar bersama teman-temannya.

Sifat yang patut diteladani dari tokoh di atas adalah ... .

- |                             |                           |
|-----------------------------|---------------------------|
| a. tinggi hati dan ramah    | c. rendah hati dan angkuh |
| b. tinggi hati dan ambisius | d. rendah hati dan ramah  |

40. Paragraf yang memiliki pikiran pokok berada di awal paragraf disebut paragraf ... .

- |             |                      |
|-------------|----------------------|
| a. induktif | c. campuran          |
| b. deduktif | d. deduktif induktif |





41. Toko Timbul Jaya Elektronik menjual berbagai produk, di antaranya speaker 6 inch, kabel, set top box, mixer 4 channel, dan power clas AB. Harga speaker 6 inch Rp25.000,00; kabel per meter Rp5.000,00; set top box Rp50.000,00; mixer 4 channel Rp40.000,00; power clas AB Rp30.000,00.

Anton membawa tiga uang dua puluh ribuan, tiga uang lima ribuan, sepuluh uang dua ribuan untuk membeli sebuah set top box dan mixer 4 channel. Berapa uang yang harus dibayarkan oleh Anton ke tokonya ?

- a. Rp95.000,00
- b. Rp90.000,00
- c. Rp85.000,00
- d. Rp80.000,00

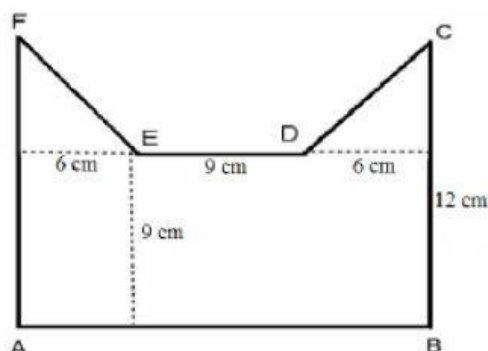
42. Sarah ingin merayakan hari ulang tahunnya. Ia ingin membagikan hadiah kue serta coklat (satu paket) kepada beberapa teman dekatnya. Jika kuenya ada 100 sedangkan coklatnya ada 150, berapa paket yang akan dibagikan?

- a. 25 paket
- b. 35 paket
- c. 40 paket
- d. 50 paket

43. Hasil dari  $\frac{3}{4} + \frac{4}{6} - \frac{1}{12}$  adalah ...

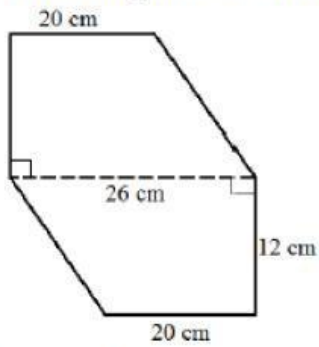
- a.  $\frac{2}{3}$
- b.  $\frac{4}{3}$
- c.  $\frac{3}{4}$
- d.  $\frac{3}{2}$

44. Tentukan luas bangun di bawah ini.



- a.  $182 \text{ cm}^2$
- b.  $198 \text{ cm}^2$
- c.  $207 \text{ cm}^2$
- d.  $231 \text{ cm}^2$

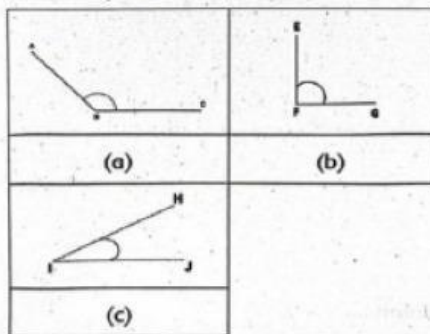
45. Perhatikan gambar berikut.



Tentukan luas bangun di atas!

- a.  $212 \text{ cm}^2$
- b.  $343 \text{ cm}^2$
- c.  $473 \text{ cm}^2$
- d.  $552 \text{ cm}^2$

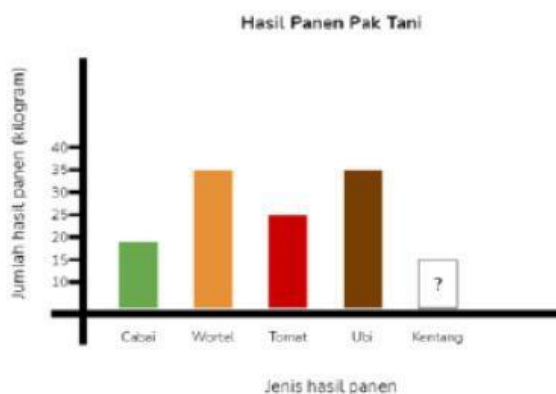
46. Perhatikan gambar berikut.



Jenis sudut yang sesuai dengan gambar di atas adalah ....

	(a)	(b)	(c)
a.	lancip	siku-siku	tumpul
b.	tumpul	siku-siku	lancip
c.	siku-siku	lancip	tumpul
d.	tumpul	lancip	siku-siku

47. Hasil panen kebun Pak Tani bulan ini disajikan dalam diagram batang berikut ini.

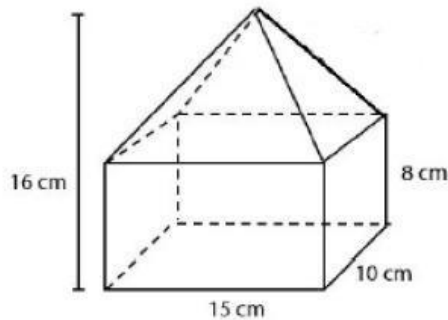




Jika total hasil panen kebun Pak Tani pada bulan ini adalah 150 kilogram, berapa jumlah hasil panen kentangnya?

- a. 25 kg
- b. 35 kg
- c. 45 kg
- d. 55 kg

48. Perhatikan gambar berikut.



Volume bangun tersebut adalah ...

- a.  $1600 \text{ cm}^3$
- b.  $1800 \text{ cm}^3$
- c.  $2100 \text{ cm}^3$
- d.  $3000 \text{ cm}^3$

49. Diketahui beberapa pecahan sebagai berikut :  $0,4$  ;  $\frac{3}{8}$  ;  $15\%$  ;  $0,25$ .

Urutan pecahan dari yang terkecil ke terbesar adalah...  $15\%$ ,  $0,25$ ,  $\frac{3}{8}$  , dan  $0,4$

- a.  $0,25$  ;  $\frac{3}{8}$  ;  $15\%$  ;  $0,4$
- b.  $0,4$  ;  $15\%$  ;  $\frac{3}{8}$  ;  $0,25$
- c.  $15\%$  ;  $\frac{3}{8}$  ;  $0,25$  ;  $0,4$
- d.  $15\%$  ;  $0,25$  ;  $\frac{3}{8}$  ;  $0,4$

50. Hasil dari  $9,63 - 3,08 \times 1,05 + 1,046$  adalah ....

- a. 7,924
- b. 7,442
- c. 5,532
- d. 5,352

51. Dalam kompetisi matematika, setiap jawaban yang benar diberi nilai 4, salah -2 dan tidak dijawab -1. Dari 40 soal yang diberikan, Rico berhasil menjawab benar 31 dan salah 6. Skor yang diperoleh Rico adalah ....

- a. 112
- b. 109

