


# BANGUN RUANG MATEMATIKA

kelas 5



Made Sumiartini

Nama: \_\_\_\_\_

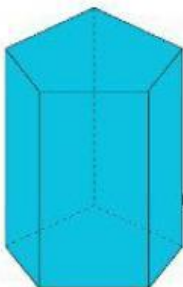
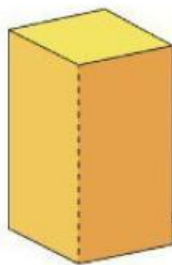
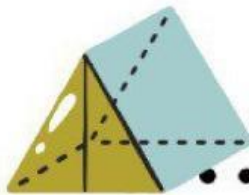
Beri nama bangun ruang di bawah ini sesuai dengan pilihan yang disediakan!

PRISMA SEGI TIGA

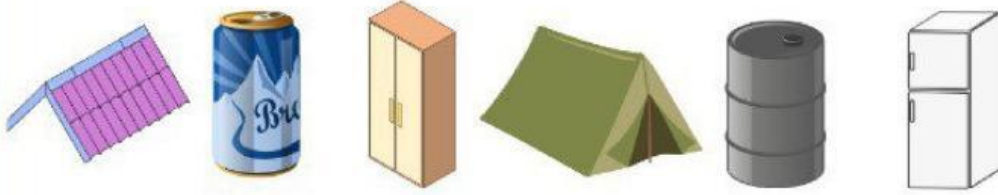
PRISMA SEGI EMPAT

PRISMA SEGI LIMA

TABUNG



Kelompokkan bangun ruang di bawah ini dengan gambar yang sesuai!



PRISMA SEGI TIGA



PRISMA SEGI EMPAT



TABUNG



Tariklah garis sesuai sifat-sifat bangun ruiaang di bawah ini!

Memiliki 5 sisi  
Memiliki 9 rusuk  
Memiliki 8 titik sudut

PRISMA SEGI LIMA

Memiliki 2 rusuk.  
Memiliki 3 bidang  
Tidak memiliki titik sudut.

PRISMA SEGI EMPAT

Memiliki 7 sisi  
Memiliki 15 rusuk  
Memiliki 10 titik sudut

PRISMA SEGI TIGA

Memiliki 5 sisi  
Memiliki 9 rusuk  
Memiliki 6 titik sudut

TABUNG