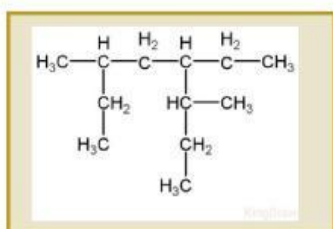
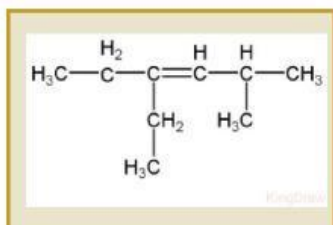
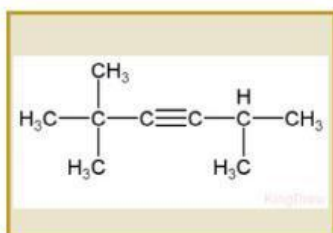


# Soal Ulangan Harian Hidrokarbon dan Minyak Bumi

Lengkapilah tabel berdasarkan nama dari hidrokarbon dibawah ini.

Isilah tabel berikut dengan "Ya" jika pernyataan benar, dan "Tidak" jika pernyataan salah

Pernyataan	Ya/Tidak
<b>C<sub>7</sub>H<sub>16</sub> memiliki 9 isomer</b>	
<b>3-etil-2,4-dimetiloktana memiliki 3 atom C sekunder</b>	
<b>2-metilbutana merupakan isomer dari senyawa n-butana</b>	
<b>Avtur digunakan sebagai bahan bakar pesawat terbang</b>	
<b>Minyak bumi berasal dari jasad bakteri menurut teori Duplex</b>	