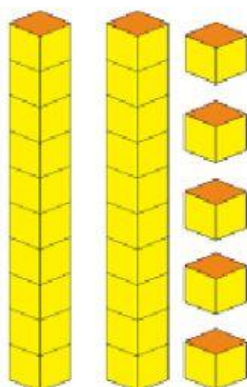


A. Pilihlah jawaban yang tepat pada soal-soal berikut.

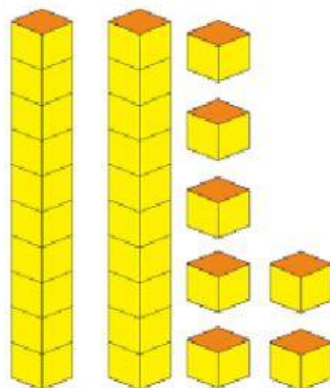
1.



Jumlah kubus di atas adalah

- a. 24
- b. 25
- c. 26

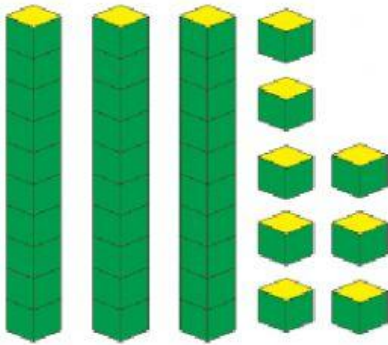
2.



Jumlah kubus di atas adalah ...

- a. 28
- b. 27
- c. 26

3.



Jumlah kubus di atas adalah ...

- a. 37
- b. 36
- c. 38

4. 19 dari 25.

- a. Sama dengan
- b. Kurang
- c. Banyak

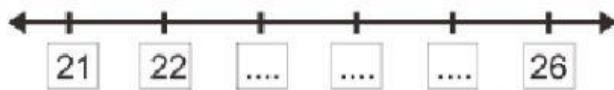
5. 37 dari 31

- a. Sama dengan
- b. Kurang
- c. Banyak

6. 20 dari 20

- a. Sama dengan
- b. Kurang
- c. Banyak

7.



Bilangan yang tepat untuk mengisi titik-titik di atas adalah

- a. 23 , 25 , 26
- b. 24, 25, 26
- c. 23, 24, 25

8.



Bilangan yang tepat untuk mengisi titik-titik di atas adalah

- a. 36, 37, 38
- b. 38, 39, 40
- c. 32, 33 , 34

9.



Nama bilangan di atas adalah ...

- a. Tiga puluh tujuh
- b. Tiga belas tujuh
- c. Tiga tujuh

10. 4 puluhan dan 6 satuan sama dengan

- a. 10
- b. 46
- c. 406

11. Lima puluh dua jika ditulis lambang bilangan menjadi

- a. 42
- b. 52
- c. 502

12. 78 jika dibaca adalah

- a. Tujuh delapan
- b. Tujuh belas delapan
- c. Tujuh puluh delapan

13. 26, 21, 34, 30

Urutan yang tepat dari bilangan yang terkecil adalah ...

- a. 34, 30, 26, 21
- b. 21, 30, 26, 34
- c. 21, 26, 30, 34

14. 36, 28, 24, 37

Urutan yang tepat dari bilangan yang terbesar adalah ...

- a. 37, 36, 28, 24
- b. 24, 28, 36, 37
- c. 24, 36, 37, 28

15. Hasil dari $36 + 42$ adalah...

- a. 74
- b. 78
- c. 76

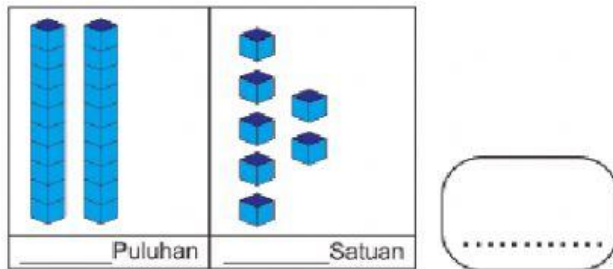
B. Essay

1.

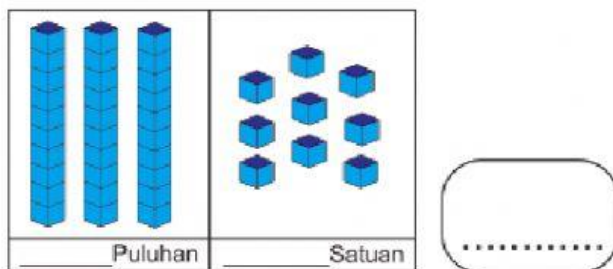


Nama bilangan di atas adalah ...

2.



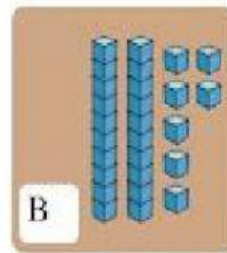
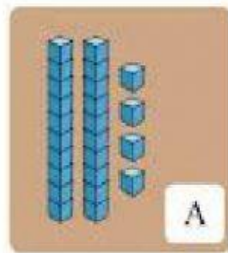
3.



4. Lengkapilah kata yang tepat untuk mengisi titik-titik di bawah ini

- a. 37 dari 28
- b. 21 dari 31
- c. 40 40

5. Bandingkanlah antara A dan B.



A lebih dari B

6. Tentukan hasil pengurangan dari soal di bawah ini!

a. $45 - 13 =$

b. $38 - 24 =$

c. $36 - 15 =$