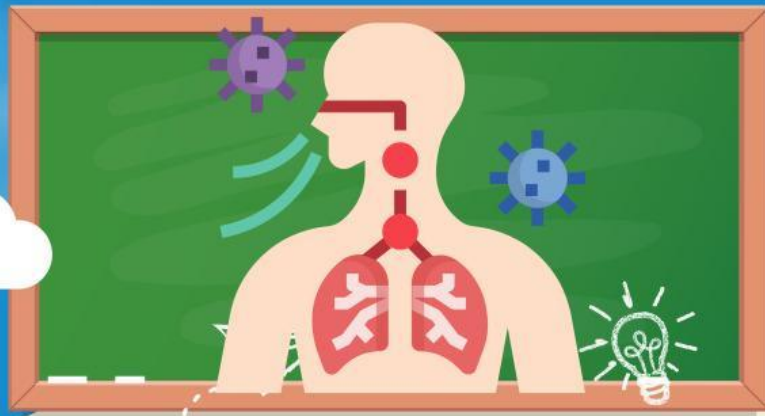




# LEMBAR KERJA PESERTA DIDIK

*Sistem Pernapasan Pada Manusia*  
Kelas 5



## Tujuan Pembelajaran

- 1 Dengan mengamati penjelasan dari guru peserta didik dapat mengetahui organ-organ pernapasan pada manusia.
- 2 Dengan mengamati penjelasan dari guru dan mengamati buku pembelajaran peserta didik dapat mengetahui fungsi organ yang terdapat pada sistem pernapasan manusia.

## Alat dan Bahan

- 1 Buku Siswa Kelas 5 IPAS SD
- 2 Alat Tulis
- 3 SmartPhone

## Petunjuk Mengerjakan E-LKPD

- 1 Berdoa terlebih dahulu sebelum mengerjakan E-LKPD
- 2 Bacalah buku dan bahan ajar yang berkaitan dengan materi sebelum mengerjakan E-LKPD
- 3 Kerjakan E-LKPD teliti
- 4 Jawablah pertanyaan yang ada dengan benar



# Organ Pernapasan Manusia

Nama Kelompok : 1.....

2.....

3.....

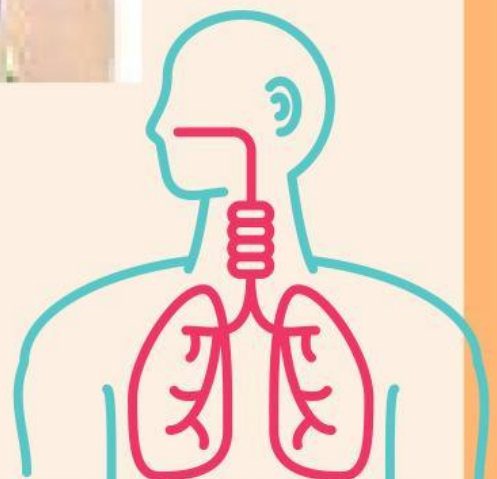
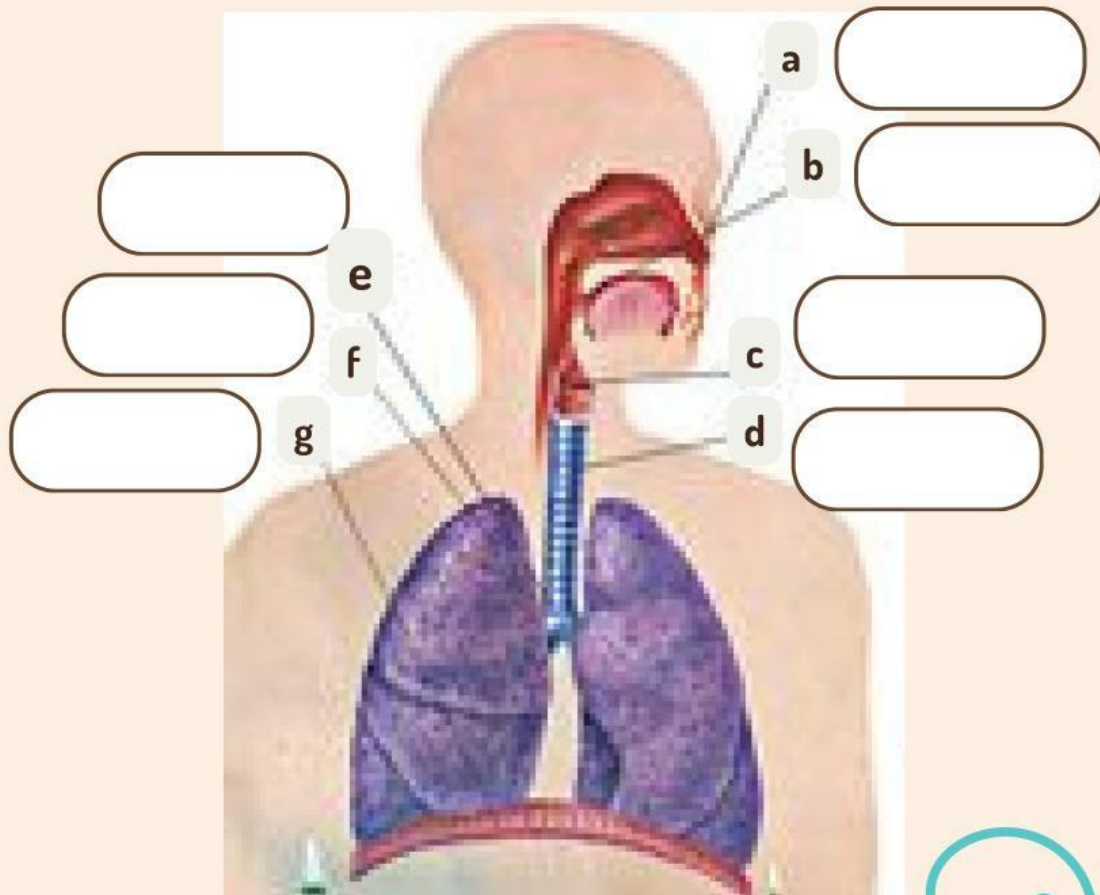
4.....

5.....

Kelas : \_\_\_\_\_

## Soal 1 :

Isilah kotak di bawah ini dengan nama alat pernapasan pada manusia



## **Petunjuk soal 2:**

Tulislah nama organ dan fungsi dari organ pernapasan manusia secara singkat yang telah kalian ketahui pada tabel di bawah ini!

<b>Gambar</b>	<b>Nama Organ</b>	<b>Fungsi Organ</b>
<b>a</b>	.....	.....
<b>b</b>	.....	.....
<b>c</b>	.....	.....
<b>d</b>	.....	.....
<b>e</b>	.....	.....
<b>f</b>	.....	.....
<b>g</b>	.....	.....