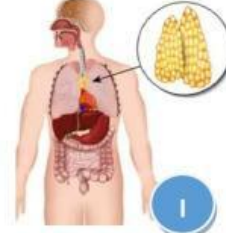
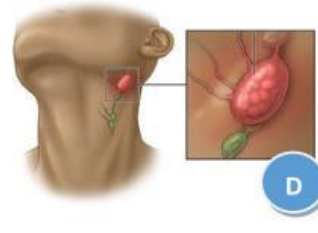
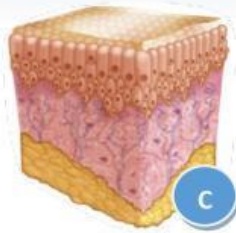
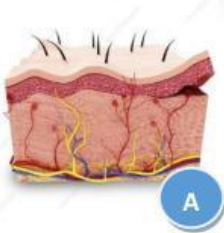


## Bio Activity (Science & Technology)

1. Perhatikan gambar struktur organ di bawah ini!



Struktur organ di atas adalah organ yang berperan dalam sistem pertahanan tubuh, tetapi tidak semua organ yang dapat menghasilkan antibodi. Tentukan organ yang dapat menghasilkan antibodi dan organ yang tidak menghasilkan antibodi dengan melengkapi tabel berikut ini!

a. Struktur organ yang menghasilkan antibodi

Nama & Gambar	Letak	Komposisi	Fungsi


b. Struktur organ yang tidak menghasilkan antibodi

Nama & Gambar	Letak	Komposisi	Fungsi


2. Simak video animasi berikut ini!



Berdasarkan video animasi tersebut jawablah pertanyaan di bawah ini:

a. Apa saja benda-benda asing yang dapat menyerang sistem pertahanan tubuh?

b. Bagaimana cara benda-benda asing tersebut masuk ke dalam tubuh?