



# LKPD TIK KELAS 7

## MATERI PERANGKAT KERAS

NAMA :

KELAS :

GURU :

SMP NEGERI 1 WOYLA BARAT

**PERHATIKAN MATERI DARI VIDEO BERIKUT:**





**BACALAH MATERI YANG TERLAMPIR DALAM PPT BERIKUT:**






**Berikan nama dan fungsi dari perangkat komputer berikut:**

Gambar	Nama	Fungsi
		
		
		
		
		
		

**pilihlah benar atau salah dari gambar berikut !**


	<b>Nama</b>	<b>Benar atau Salah</b>	
	<b>Joystick</b>	<div>Benar</div> <div></div>	<div>Salah</div> <div></div>
	<b>Pemindai Biometrik</b>	<div>Benar</div> <div></div>	<div>Salah</div> <div></div>

**Lengkapilah Tabel nama dan jenis perangkat berikut !**

	<b>Nama</b>	<b>Jenis Perangkat</b>
		
		
		



**Silahkan Tarik garis dari lajur kanan ke lajur kiri sehingga menjadi jawaban yang benar !**



**Microfon**



**Pemindai Biometrik**



**RAM**



**Kartu Grafis**



**Sound Card**