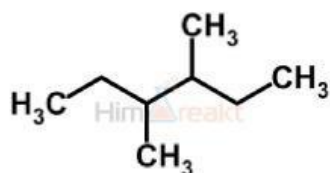


1. Установіть відповідність між структурною формулою та їх назвою:

1

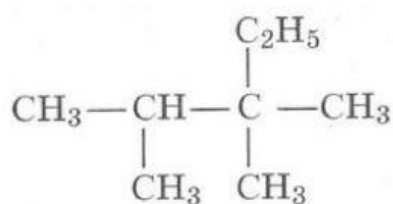


A 2-етилбутан

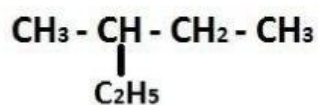
Б 3,4-диметилгексан

В 2,3,3-триметилпентан

2



3



2. Установіть відповідність між реагентами та продуктами реакції:

