

2. Tipos de palanca

3.- Indica el grado de cada Palanca.



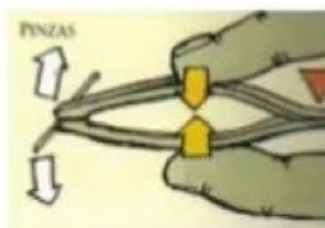
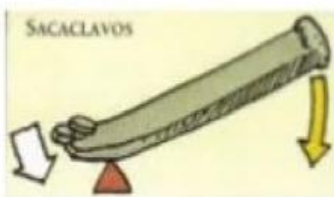

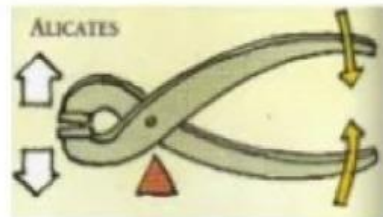
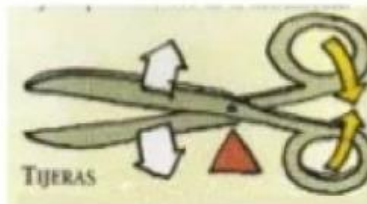
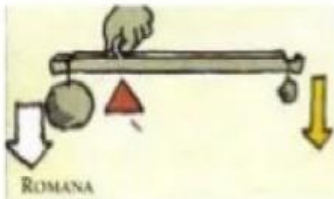
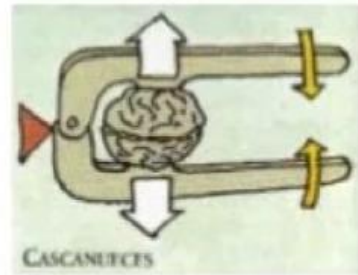
Fulcro



Resistencia



Potencia



4.- Indica el grado de cada palanca y en cada una donde está el fulcro (F), donde está la resistencia (R) y donde se aplica la potencia (P).

