

Lengkapi identitasmu dulu yuk!

Nama:

Kelas:

Kerjakan soal-soal dibawah ini dengan teliti!

Pilihlah jawaban yang tepat dengan klik jawaban yang kamu pilih!

1

### COVID 19 MERAMBAH ASEAN



Sejak Januari 2020, sejenis virus menimbulkan kegaduhan di Provinsi Wuhan Cina. Kemudian menyebar ke banyak negara. Diagram berikut merupakan data penderita yang sembuh dari wabah Covid-19 di beberapa negara ASEAN. Urutan negara-negara tersebut berdasarkan banyak penderita yang sembuh dilanjutkan dengan abjad nama negara secara meningkat adalah ....

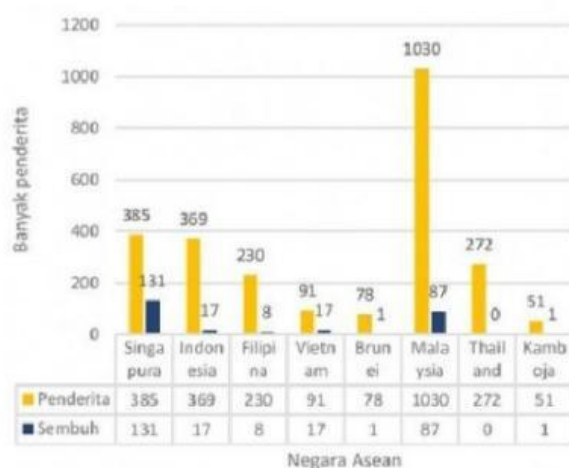
- A. Brunei, Filipina, Indonesia, Thailand, Kamboja, Malaysia, Singapura, Vietnam.
- B. Singapura, Malaysia, Vietnam, Indonesia, Filipina, Kamboja, Brunei, Thailand.
- C. Thailand, Brunei, Kamboja, Filipina, Indonesia, Vietnam, Malaysia, Singapura.
- D. Thailand, Filipina, Brunei, Indonesia, Kamboja, Vietnam, Malaysia, Singapura.

Jawablah pertanyaan dibawah ini dengan klik pernyataan benar atau salah!

2

### COVID 19 MERAMBAH ASEAN

Penderita Sembuh Covid-19 di Negara ASEAN



Dengan melihat diagram berikut. Tentukan benar dan salah dari pernyataan berikut!

Pernyataan	Benar	Salah
Negara dengan rasio kesembuhan terendah adalah negara Thailand	<input type="radio"/>	<input type="radio"/>
Singapura adalah negara yang memiliki penderita Covid-19 terbanyak	<input type="radio"/>	<input type="radio"/>
Brunei adalah negara kedua dari banyaknya penderita yang sembuh setelah Thailand	<input type="radio"/>	<input type="radio"/>





Jawablah pertanyaan dibawah ini dengan klik pernyataan benar atau salah!



Diagram berikut menunjukkan keadaan ketenagakerjaan Indonesia pada Agustus 2015 sampai dengan Agustus 2019

3

### KEADAAN KETENAGAKERJAAN INDONESIA AGUSTUS 2019

Berita Resmi Statistik No.91/11/Th, XXII, 5 November 2019

Tingkat Pengangguran Terbuka (TPT) berdasarkan Jenis Kelamin (persen), Agustus 2015-Agustus 2019




Menurut Badan Pusat Statistik yang dimaksud dengan pengangguran terbuka adalah angkatan kerja yang sama sekali tidak mempunyai pekerjaan. Menurut UU Tenaga Kerja tahun 2003 no 13, angkatan kerja berusia antara 15 tahun sampai 64 tahun. Diagram garis menunjukkan rata-rata tingkat Pengangguran Terbuka laki-laki dan perempuan dari Agustus 2015 - Agustus 2019. Dengan melihat diagram tersebut, Tentukan benar atau salah pernyataan berikut!

Pernyataan	Benar	Salah
Angkatan kerja pada tahun berikutnya semakin bertambah sehingga pengangguran berkurang	<input type="radio"/>	<input type="radio"/>
Pengangguran akan cenderung menurun baik laki-laki maupun perempuan pada tahun berikutnya	<input type="radio"/>	<input type="radio"/>
Usaha industri rumah tangga membuka cabang baru dan menjamur dimana-mana pada tahun berikutnya	<input type="radio"/>	<input type="radio"/>




Pilihlah jawaban yang tepat dengan klik jawaban yang kamu pilih!

Tabel berikut ini merupakan data hasil tinggi badan suatu kelas yang terdiri atas 32 siswa, sebagai berikut



Tinggi Badan(cm)	Frekuensi(f)
155	4
157	15
156	2
159	3
158	8



4

Berapakah banyak siswa yang memiliki tinggi badan di atas rata-rata?

A. 26 siswa

B. 15 siswa

C. 11 siswa

D. 6 siswa

5

Berapakah modus dari data tabel di atas?

A. 158

B. 155

C. 159

D. 157

